

# GEOGRAFIA

## JUDEȚULUI CONSTANȚA

ȘI CU

GENERALITĂȚI ASUPRA ROMÂNIEI

PENTRU

Clasa II primară urbană și Divizia II rurală, anul I și II

DE

**D. BUJILĂ**  
*Institutor*  
*fost revizor școlar*

ȘI

**M. MITACHE**  
*Institutor*

Aprobată de Onor.  
Minister al Instrucțiunii Publice  
cu ordinul No. 37065 și No  
37066 din 21 Iulie 1911,  
seria A.

**Motto :** „Înainte de orice  
Dumnezeu și Patria”

**EDIȚIA I**



**BUCUREȘTI**

EDITURA LIBRĂRIEI «H. STEINBERG»  
No. 7, Strada Șelari, No. 7

# GEOGRAFIA JUDEȚULUI CONSTANȚA

ȘI CU

**GENERALITĂȚI ASUPRA ROMÂNIEI**

PENTRU

Clasa II primară urbană și Divizia II rurală, anul I și II

DE

**D. BUJILĂ**  
*Institutor*  
*fost revizor școlar*

ȘI

**M. MITACI**  
*Institutor*



Biserica din Harșova

**BUCUREȘTI**

EDITURA LIBRĂRIEI «H. STEINBERG»


No. 7, Strada Șelari, No. 7

Aprobată de Onor.

Minister al Instrucțiunii Publice  
cu ordinul No. 37065 și No.  
37066 din 21 Iulie 1911,  
seria A.

**Motto :** „Înainte de orice  
Dumnezeu și Patria”

**EDIȚIA I**



## Orientarea.

---

Cât stăm în clasă, avem în fața noastră pe domnul învățător, catedra, scaunul și tabla. În spatele nostru sunt școlari. La dreapta și la stânga noastră sunt asemeni, alți școlari. Ca să spunem locul, unde se află catedra sau scaunul, ne-am gândit în care parte a noastră se află, — și am spus. Ne-am îndreptat după noi, după corpul nostru. Tot așa ne îndreptăm după orice lucru.

Așa : în fața clasei noastre se află împrejmuirea și grădina ; în fața băncilor este catedra ; în spatele lor este peretele clasei. — Indreptarea aceasta a noastră, după un lucru oarecare, ca să spunem locul altor lucruri, sau să spunem încotro mergem, se numește orientare.

Noi ne putem îndreptă sau orientă după orice lucru.

---

## Punctele cardinale

Cum ne putem orienta după orice lucru de pe pământ, așa ne putem orienta și după soare. Dimineața vedem că soarele iese încet, încet, dintr'o parte a cerului și se ridică în



Miazăzi

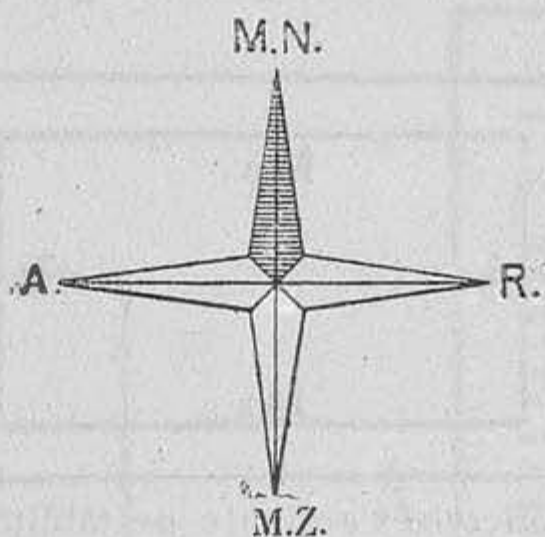
sus pe cer. Când se vede soarele ieșind noi zicem, că răsare soarele; iar partea aceea a cerului și a pământului se numește **Răsărit**. Oamenii cari știu carte îi zic **Est**.

După ce răsare, soarele se tot ridică în sus pe cer.

Pe la mijlocul zilei, el ajunge tot mai sus, — și noi zicem, că soarele este la amiază.

La amiază eșim și noi de la școală. Partea spre care se află soarele, când e la amiază se numește **Miazăzi** sau **Sud**. Partea din față cu Miazăzi se numește **Miazănoapte** sau **Nord**. După amiază, soarele se tot coboară, până ajunge jos de tot și, — apoi se ascunde.

Când se ascunde soarele, noi zicem, că apune. Partea unde apune soarele se numește **Apus** sau **Vest**. Răsăritul, Apusul, Miazăzi și Miazănoapte, cu un singur nume, se numesc **puncte cardinale**. Sunt dar 4 puncte cardinale. După ele ne orientăm de multe ori și spunem locul unde se află lucrurile, sau unde ne aflăm noi. Așa: clasa noastră are un perete la Răsărit, altul la Apus, unul la Miazăzi și altul la Miazănoapte.



La Răsăritul clasei noastre se află.....  
iar la Apusul ei se află.....


Se poate întâmpla, ca vreodată să ne aflăm într'o pădure, unde nu lucește soarele pe cer, e nour și ni se pare c'am rătăcit și nu știm pe ce drum sau cărare să mergem. Atunci ne putem îndrepta, sau orienta după **mușchii** cari cresc pe scoarța copacilor.

Acești mușchi cresc în partea de Nord a coajei copacului, căci lor le place mai multă umezeală și nu au nevoie de multă lumină. Știind aceasta ne așezăm cu fața spre Miazănoapte și ușor găsim și celelalte puncte cardinale, îndreptându-ne spre partea unde

știm că vine satul, orașul sau locul unde voim să mergem.

\*  
\* \* \*

Dacă ne așezăm cu mâna dreaptă spre Răsărit, spre mâna stângă este Apusul, în fața noastră este Miazănoapte și în spate Miazăzi. După ce ne-am așezat astfel să luăm o tăbliță și așezând-o culcat sau pe lat, să însemnăm cu R. marginea dinspre Răsărit, cu A. marginea dinspre Apus, cu Mn. mar-



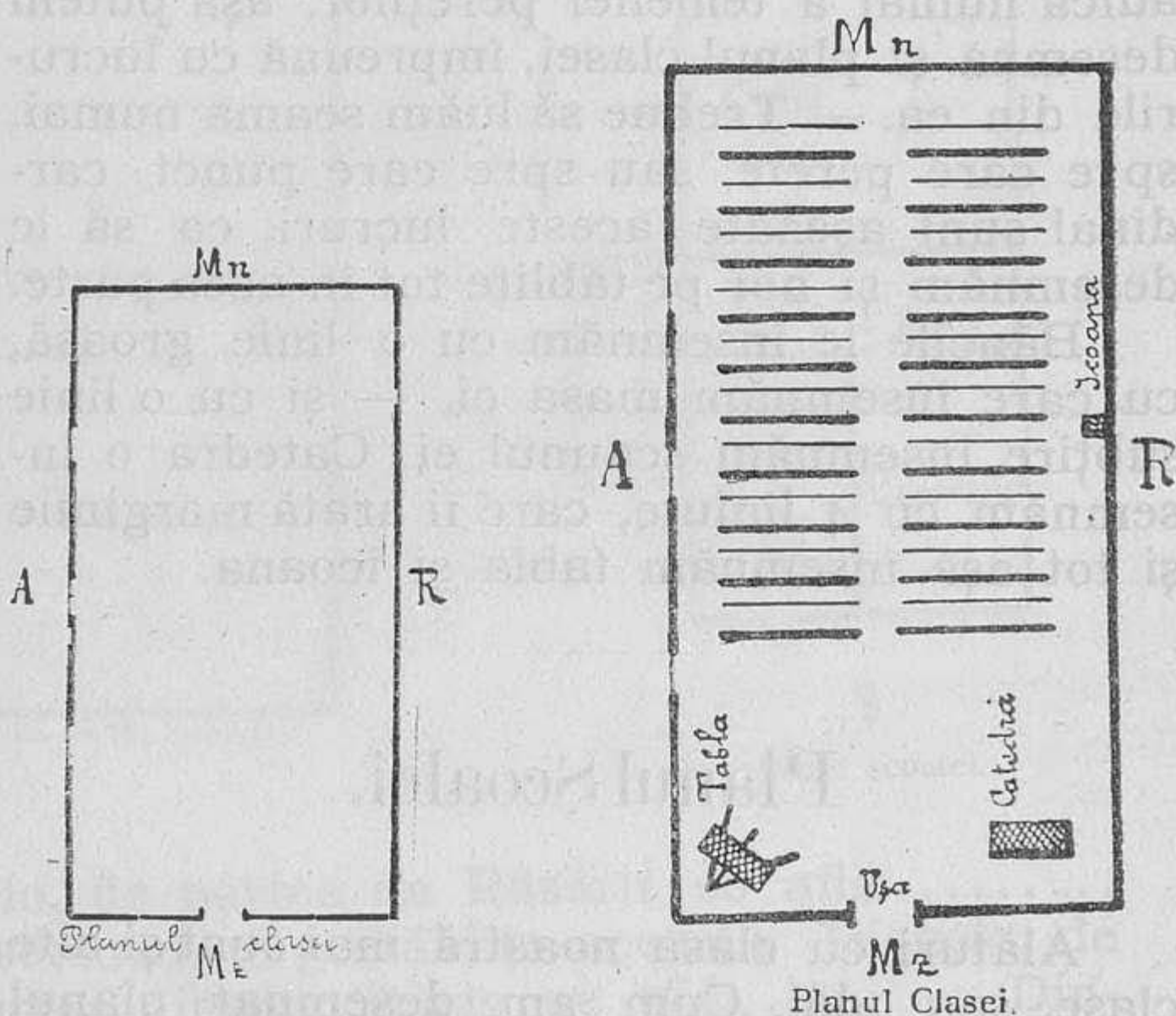
Punctele Cardinale pe tăbliță.

ginea despre Miazănoapte și cu Mz. marginea despre Miazăzi. Dacă ridicăm acum tăblița și o ținem drept în picioare, vedem că Răsăritul vine la dreapta, Apusul la stânga, Miazănoapte sus și Miazăzi jos. Ori cum ne-am întoarce cu fața, pe placă ele rămân la fel însemnate.

Pe tăbliță vine dar, Răsăritul la dreapta, Apusul la stânga, Miazănoapte sus și Miazăzi jos. Tot așa sunt însemnate și se însemnează punctele cardinale pe caiete, pe tablă și pe hărți.

## Planul Clasei.

Noi putem desemna pe tăblițe chipuri de lucruri și ființe. Tot așa putem să desemnăm și chipul clasei și al școalei. Noi putem desemna chipul școalei întregi, sau numai chipul temeliei pereților și să însemnăm cam în ce drept vin ferestrele și ușa. Dacă de-



semnăm așa, chipul acesta se numește **plan**. Ca să desemnăm planul clasei noastre, luăm seama spre care punct cardinal sunt așezați pereții ei. Peretele dela Răsărit îl desemnăm în partea dreaptă a tăbliței cu o linie dreaptă

de sus în jos. În dreptul unde vin ferestrele și ușa lăsăm un loc gol. Peretele dinspre Miazănoapte îl desemnăm în partea de sus a tăbliței cu o linie orizontală sau culcată.

Peretele de la Apus îl desemnăm în partea stângă a tăbliței și pe cel de la Miazăzi în partea de jos.

Cum am desemnat planul clasei singure, adică numai a temeliei pereților, așa putem desemna și planul clasei, împreună cu lucrurile din ea. — Trebuie să luăm seama numai, spre care perete, sau spre care punct cardinal sunt așezate aceste lucruri, ca să le desemnăm și noi pe tăblițe tot în acea parte.

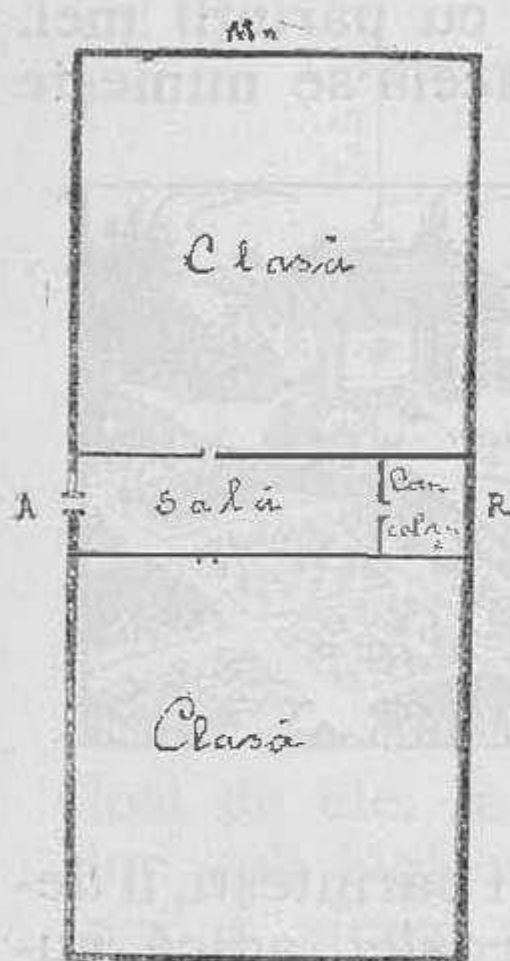
Băncile le însemnăm cu o linie groasă, cu care însemnăm masa ei, — și cu o linie subțire însemnăm scaunul ei. Catedra o însemnăm cu 4 liniuțe, care îi arată marginile și tot așa însemnăm tabla și icoana.

## Planul Școalei.

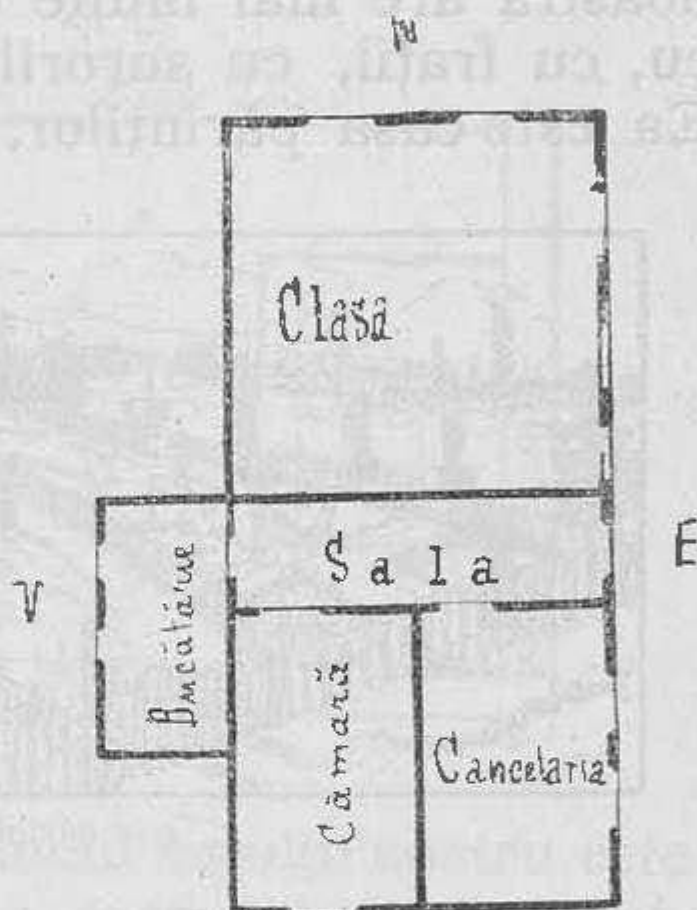
Alături cu clasa noastră mai sunt și alte clase, sau odăi. Cum am desemnat planul clasei, tot așa desemnăm și planul școalei întregi, cu toate odăile. Ca să le putem desemna pe toate, pe tăbliță, facem și planul clasei mai mic, — și tot așa planul celorlalte odăi. — Ușile le însemnăm tot ca la planul clasei.



Imprejurul școalei se află grădina și curtea. Noi putem să desemnăm și planul grădinei și al curții, împreună cu planul școalei. Luăm seama și locul în care este așezată școala și căutăm s'o desemnăm pe tablite, în acea parte a planului școalei. Din-



Planul nr. școlii.



Planul școalei.

colo, de partea de Răsărit se află..... însemnăm și pe tablite aceasta. Dincolo, de partea dinspre Apus se află..... Dincolo, de marginea de Miazănoapte se află.., iar spre Miazăzi se află..... însemnăm acestea și pe tablită.

## Casa părintească.

F a m i l i a .

---

Delà școală noi mergem acasă. Casa noastră are mai multe odăi. In casă trăiesc eu, cu frații, cu surorile și cu părinții mei. Ea este casa părinților, de aceea se numește:



Casa părintească.

**casa părintească.** Planul casei părintești, îl desemnăm la fel, cu planul școlii, adică numai temelia pereților ei.

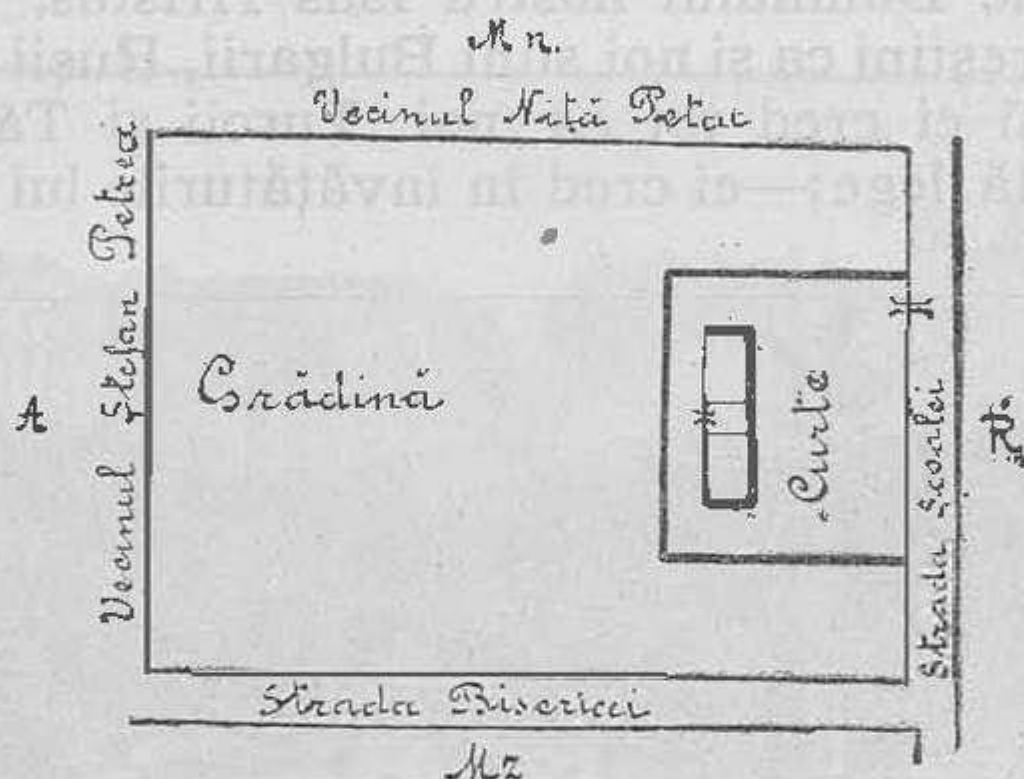
## Stradele ce trec pe la școală

---

Delà școală mergem acasă, pe stradă. Ca să poată merge dela o casă la altă, oamenii au lăsat un loc gol. Acest loc gol dintre case se numește stradă.

Pe o stradă de acestea noi mergem la biserică. In biserică pot intra toți oamenii din sat. Ea este a tuturor, de aceea se numește casă a tuturor, sau local public.

Tot local public este și școala și primăria, fiindcă și ele sunt ale tuturor, toți se pot fo-



losi de ele. In mijlocul satului nostru este un loc gol, fără nici o casă pe el. Acestui loc noi îi zicem maidan. Nu în toate satele se chiamă așa. In unele părți aceste locuri goale sunt pietruite frumos și se numesc piețe.

## Satul și orașul.

Pe lângă școală mai sunt și alte case, casele noastre părintești. Mai multe case la un loc formează un sat. Fiecare sat are un

nume. Satul nostru se numește . . . . . Oamenii cari trăesc într'un sat se numesc locuitorii satului.

Locuitorii din satul nostru sunt **Români**. In alte sate mai sunt și Turci, Tătari. . . . Noi suntem creștini, fiindcă credem în învățăturile Domnului nostru Isus Hristos.

Creștini ca și noi sunt Bulgarii, Rușii . . . căci și ei cred tot ca noi. Turcii și Tătarii au altă lege;—ei cred în învățăturile lui Ma-



Satul.

homed și de aceia se numesc **Mahomedani**. Evreii cred în învățăturile lui Moisi și de aceea se numesc **Mosaici**.

Mai toți locuitorii din satul nostru lucrează la câmp, adică se ocupă cu plugăria, ei sunt **plugari**. La noi în sat mai este și un ferar. . . . care drege uneltele de muncă ale plugarilor. In alte sate mai sunt și alți meșteșugari. In alte părți oamenii se ocupă mai mult cu negustoria,—sunt negustori.

Printre dâșii se găsesc de multe ori și fel de fel de meșteșugari: cismari, cojocari, fierari, tinichigii și alții. Ei au case frumoase și străzi pietruite, ca să nu se facă praf, sau noroiu.

Pe marginea străzilor de multe ori se



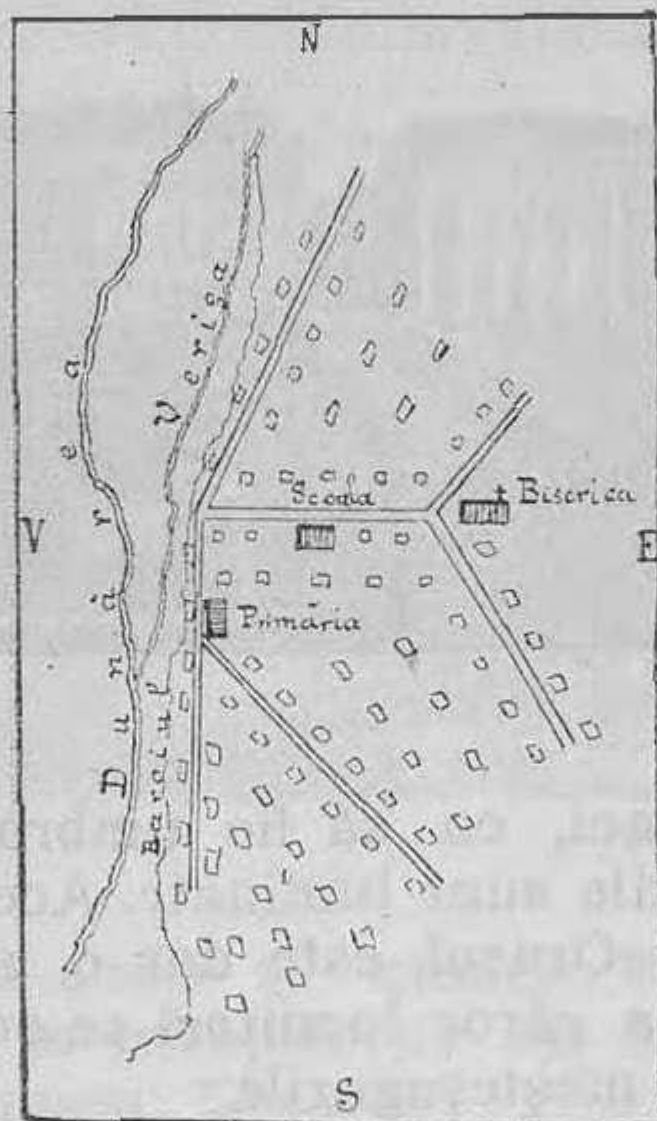
Orașul.

sădesc copaci, ca să fie umbră. În timpul nopții străzile sunt luminate. Acestea se numesc orașe. Orașul este dar o alcătuire de case mari, a căror locuitori se ocupă cu negustoria și meșteșugurile.

Locuitorii orașului se numesc orășeni. iar locuitorii satului, săteni sau țărani.

## Planul satului

Cum am desemnat planul clasei, al școalei și al casei părintești, putem desemna și planul satului. Prin fața școalei noastre trece o stradă. Ea are un capăt spre Apus și altul spre Ră-



Planul satului.

sărit. Pe tăbliță o s'o desmnăm dela dreapta spre stânga. Marginile străzii le desemnăm prin două linii paralele, cari sunt deopotrivă depărtate una de alta.

Pe această stradă sunt așezate casele locuitorilor și biserica. Locul caselor îl desem-

năm cu 4 linii (un pătrat); iar biserica o însemnăm tot cu 4 linii și deasupra figurii, o cruce.

Școala și primăria le însemnăm pe stratele unde sunt așezate și tot așa putem desemna și celelalte străzi ale satului,—să ținem seamă numai, încotro are cele 2 capete fiecare stradă.

## Organizarea satului.

În satul nostru se află o școală, unde copiii se adună ca să învețe carte și multe lucruri bune și folositoare. Toți copiii sunt datori a veni regulat la școală,—să fie cumiți și ascultători față de domnul învățător. Duminica și sărbătorile, oamenii din sat merg la biserică, unde cu toții ascultă rugăciunile, pe care preotul le face, pentru sănătatea și ajutorul locuitorilor. În sate se află și câte o casă, unde se adună sătenii, spre a-și spune păsurile, sau a se sfătui asupra nevoilor lor. Această casă în satele mari se numește primărie, iar în satele mai mici, casă de sfat.

\*  
\*   \*  
\*

În satul nostru este și un obor, unde se închid vitele prinse, păscând în țarină.

Școala, biserica, primăria, casa de sfat, oborul. . . sunt lucruri ale tuturor sătenilor.


Ele trebuiesc îngrijite. Câte odată se întâmplă boale de oameni, sau de vite și trebuie chemat doctorul. Altă dată din pricina ploilor se sapă drumurile și se fac rele de tot. Ele trebuiesc îndreptate. La unele sate sunt ape, cari nu se pot trece decât pe pod. Podul se strică cu timpul și trebuie dres. Trebuie dar să fie cineva, care să aibă grijă de toate acestea. De aceia oamenii se adună din 4 în 4 ani și aleg dintre ei „cinci oameni“ pe care-i socotesc ei mai buni și mai pricepuți, ca să aibă grijă de toate nevoile satului. Acești 5 oameni aleg pe unul dintre ei, care să ia seama de toate și când trebuie făcut ceva să-i cheme și pe ei la sfat. Omul ales de ei se chiamă delegat, iar oamenii aleși, pentrucă se sfătuiesc între ei, se chiamă la un loc sfat sătesc.

Fiecare dintre ei poartă numele de membru al sfatului sătesc. Delegatul satului are grija ca biserica, școala, primăria, casa de sfat, podurile, drumurile și toate casele și lucrurile publice (ale tuturor) să fie în bună stare, curate și îngrijite. Pentrucă el să poată îndeplini toate aceste însărcinări se ajută cu membrii sfatului sătesc.



## Împrejurimile satului

Împrejurul satului nostru sunt locurile de arătură ale părinților noștri. La unele sate se găsesc, împrejurul lor, vii și grădini frumoase. Prin locurile noastre trec drumuri, pe cari se duc oamenii la lucru, sau la sate,




Împrejurimile satului.

vecine cu al nostru. Dacă mergem pe drum, vedem, că locurile de pe lângă el, în unele părți sunt netede, ca în palmă; acolo zicem noi, că e câmp sau câmpie.

**Câmpia** este dar un loc neted. Ea se mai chiamă și șes sau așezătură.

Nu e însă peste tot locul șes. Pe unele locuri pământul este ridicat în sus, așa că trebuie să urci până la un loc, unde e mai sus, căruia-i zicem vârf. Aceste ridicături de

pământ se numesc dealuri. Partea pe unde urcăm dealul se chiamă **coastele** dealului, iar partea de deasupra se numește **vârful** dealului. Partea de jos a dealului se chiamă **poalele** dealului. Pe unele locuri ridicăturile de pământ sunt rotunde ca niște moșuroaie



Movilă, dealuri.

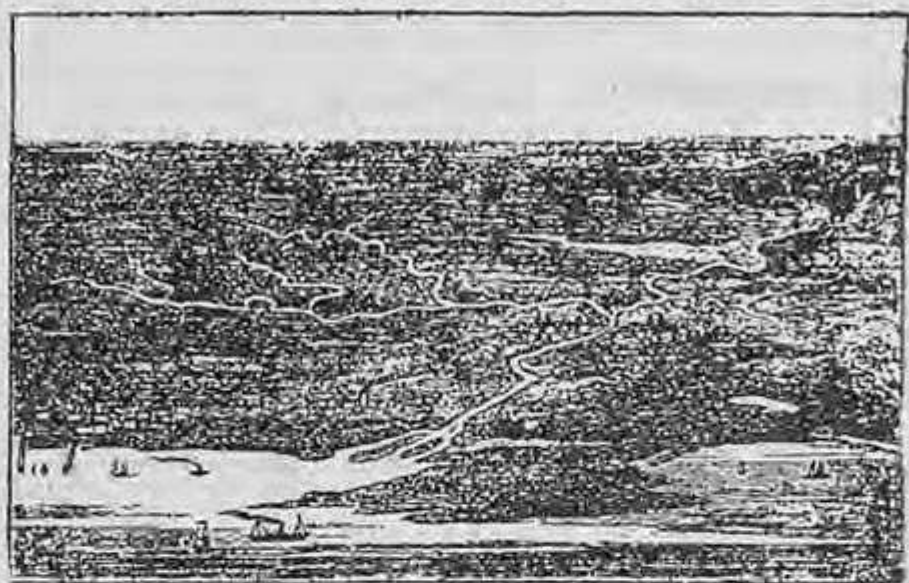
mari și noi le zicem **movile**. Movilele, mai toate, sunt făcute de oameni. Se găsesc în unele locuri și ridicături așa de mari, că deabiă le urci. Pe vârful lor mai totdeauna este frig și zăpadă. Ridicăturile acestea se numește **munți**.



Munți.

Pe lângă drum este și câte o fântână, din care scoatem apă, ca să bem. Pe unele locuri apa iese afară din pământ, fără s'o săpăm noi. Locul acela, de unde iese apa

se chiamă **izvor**. Dacă izvorul are apă multă, apa curge pe pământ și formează un **pârâu**. La pârâu oamenii din satul nostru îi zic **dereă**. E mai bine să-i zicem pârâu. Prin



Izvor, pârâu, lac, baltă

unele părți sunt ape mărișoare cari nu curg și în care se găsește și pește. Apele acestea se chiamă **lacuri** și **bâlți**. În baltă, apa este mai în față, nu e adâncă și crește stuf și papură.

## Comuna rurală și comuna urbană.

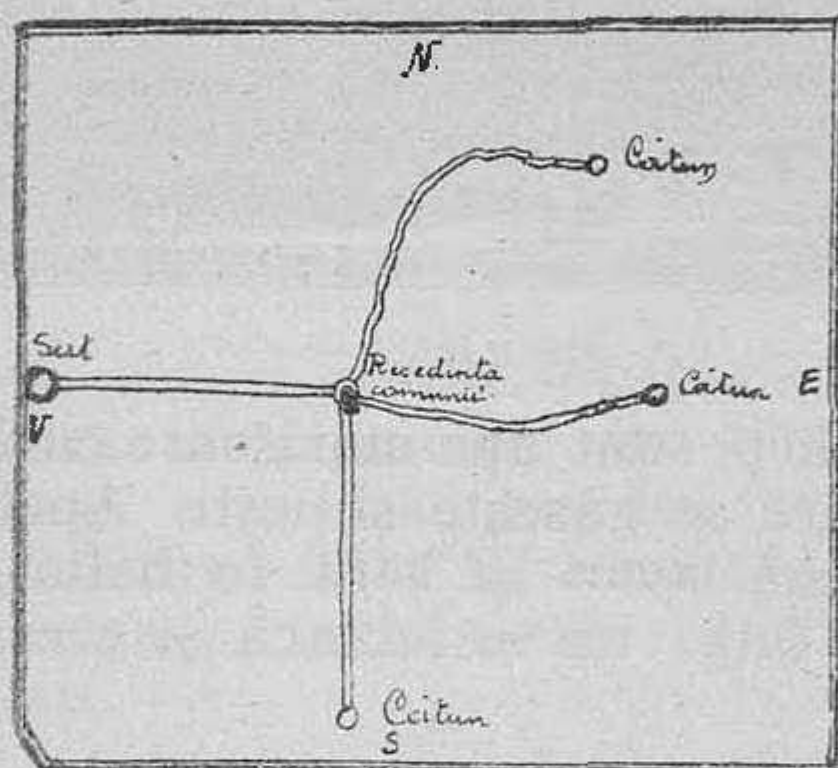
Oamenii din satul nostru, când vrea să vândă o vită se duc, de iau bilet, dela primărie. Tot la primărie se duc, când moare un om, sau când botează un copil. La primăria la care se duc oamenii din satul nostru, mai vin oamenii din satele . . . . .

Toate aceste sate formează comuna . . .

. . . Comuna este dar alcătuită din unul sau

mai multe sate, care au o singură primărie. Sunt unele sate mai mari, cari au o primărie, pentru un singur sat. Satul acela formează el singur o comună.

Tot așa și orașul formează singur o comună. Satul în care e primăria se numește **reședința comunii**. Comuna formată din sate se numește **comună rurală**; iar aceea formată din oraș se numește **comună urbană**.



Planul comunii.

Cum am desemnat planul satului, tot astfel vom desemna și planul comunii, adăugând și cătunele pe care, le are,—legându-le apoi prin linii care ne arată drumurile.

Satul are mai mult ca 100 familii, iar cătunul are mai puțin ca 100 familii.

## Organizarea comunei.

În comună sunt . . . . . școli. O școală este în satul nostru, alta în satul . . . . . Tot în comuna noastră mai sunt și biserici. În unele comuni, mai ales în cele urbane sunt străzi pietruite și grădini de plimbare. Toate acestea sunt lucruri ale comunii. Ele sunt lucruri publice, adică folosesc tuturor oamenilor din comună.

Aceste lucruri trebuiesc îngrijite; iar satele trebuiesc păzite de oameni răi.

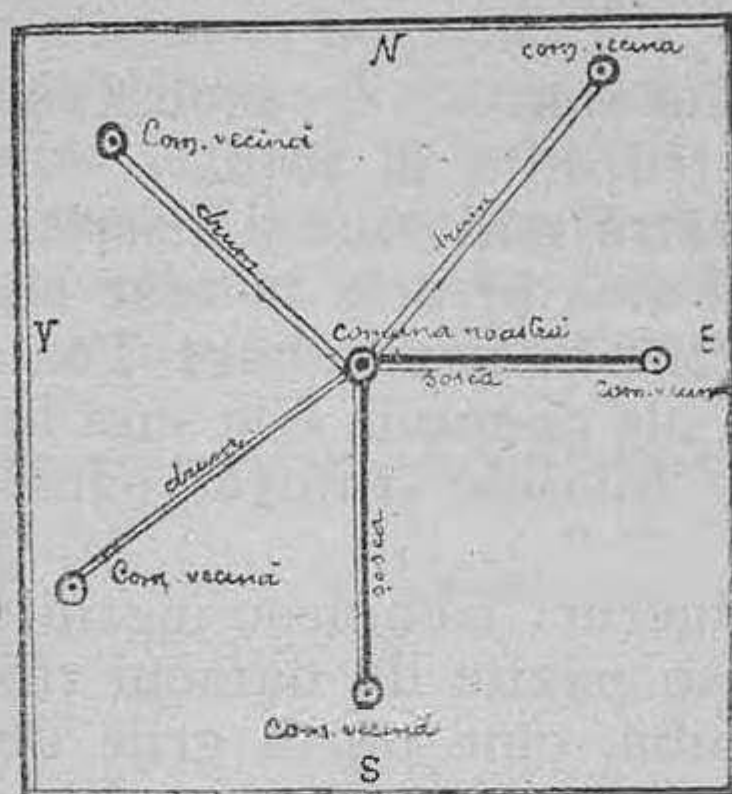
Ca să aibă, cine purtă grije de toate acestea, locuitorii comunii aleg dintre ei, din 4 în 4 ani, niște oameni cinstiți și pricepuți. Acești oameni se numesc **consilieri**, iar toți la un loc formează **consiliul comunal**.

Consilierii aleg pe unul dintre ei, ca să aibă numai grija comunii. Acesta se numește **primar**. Primarul, când vrea să facă ceva, se sfătuiește cu consiliul comunal. Așa este în orice comună rurală sau urbană.

## Imprejurimile comunii.

Comuna noastră este formată din satele . . . . . Spre Răsărit de comuna noastră se află satul-comuna . . . . .,

spre Sud sunt satele-comunele . . . . ., iar spre Nord sunt satele-comunele . . . . . Dela noi putem merge până la satul . . . . . pe



Imprejurimile comunii.

drum nepietruit, iar la satele-comunele . . . . .  
. . . pe drum pietruit sau pe șoseă.

## Orașul Constanța.

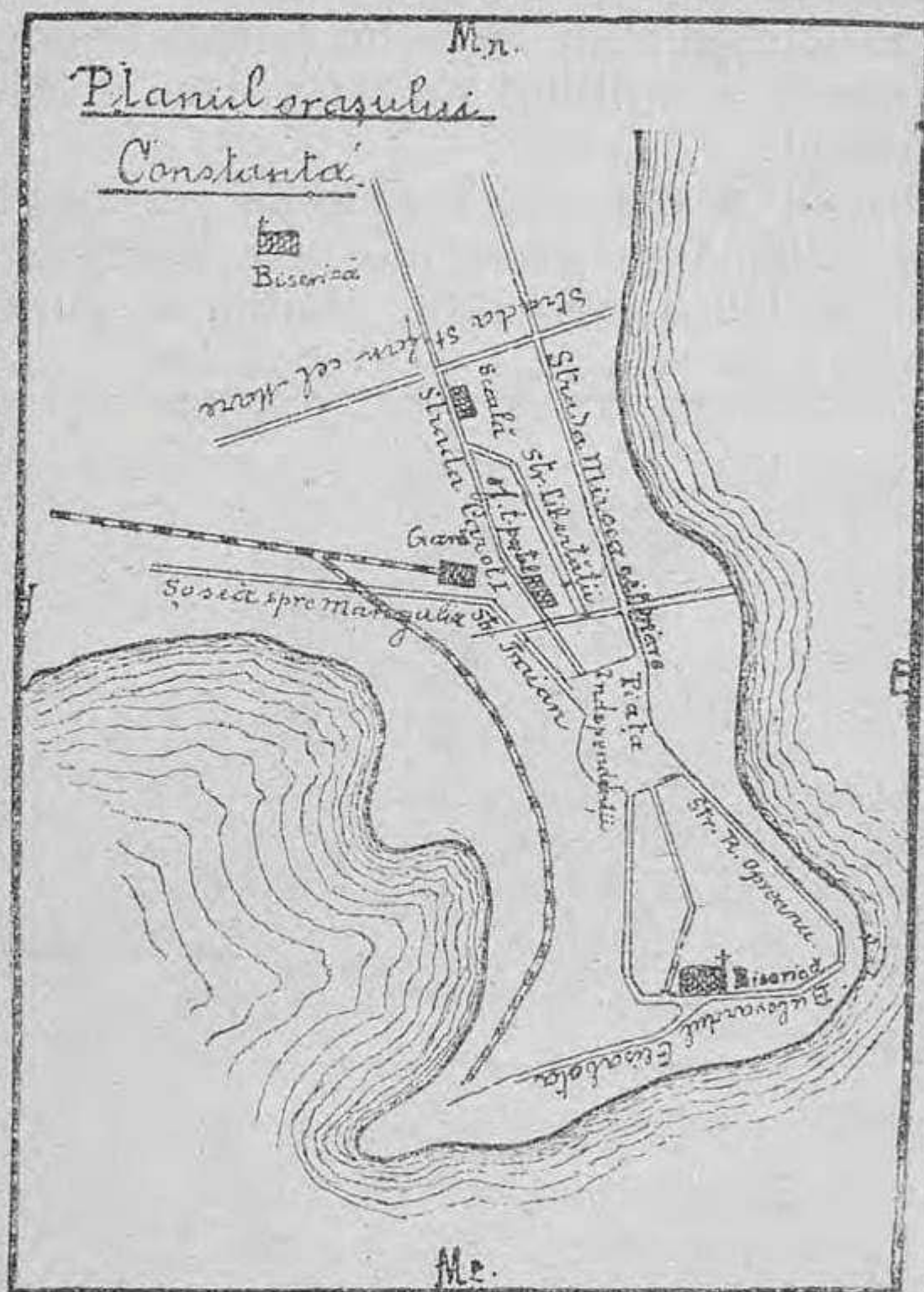
Noi locuim în orașul Constanța.

Orașul nostru este așezat pe malul Mării Negre. În mijlocul orașului este **Piața Independenței**.

Din această piață pornesc spre Nord străzile **Mircea cel Mare**, **Carol I** și **Traian**. Din strada Traian se desface șoseaua, care merge

spre Mangalia. În partea de Nord a orașului, se încrucișează cu stradele Carol și Mircea cel Mare, strada Ștefan cel mare.

Tot din Piața Independenței pornește spre



Sud, strada **Remus Opreanu**, care se prelungește dealungul mării, formându-se bulevardul **Regina Elisabeta**.

Școala noastră se află pe strada . . . . .  
Pe strada Traian se află: gimnaziul „Mircea cel Bătrân“, palatul administrativ, tribunalul, palatul regal și gara. Pe strada Carol este frumoasa clădire a oficiului telegrafo-poștal. Cazarmele și spitalul sunt în partea de Nord a orașului.

Orașul nostru are mai multe biserici frumoase. Între aceste biserici, este biserica din partea de Nord a orașului, clădită de curând,



Biserica „Sfinții Apostoli“, catedrala orașului Constanța.

biserica „Sfinții Apostoli Petru și Pavel“, cea mai frumoasă biserică și catedrală a orașului, biserica protestantă, biserica greacă și bulgară.

**Locuitorii și ocupațiunea lor.** În orașul nostru sunt mai mult Români.

Mai sunt însă și Greci, Bulgari, Armeni, Turci și Evrei. Românii, Grecii, Bulgarii și



Armenii sunt de religie creștină, fiindcă cred în învățăturile lui Hristos.


Turcii sunt Mahomedani, fiindcă urmează învățăturile lui Mahomed: iar Evreii sunt Mosaici, fiindcă urmează învățăturile lui Moisi.

Locuitorii din orașul nostru se ocupă cu negustoria și meșteșugurile. Sunt și câteva fabrici: o tăbăcărie, o moară de făină, o fabrică de bere etc.

Câțiva din locuitorii orașului se ocupă cu pescăria.

## Noțiuni geografice.

Un loc neted se numește câmp, câmpie sau șes. Mai toate câmpiile au pământ ro-



ditor, pe care cresc multe cereale și iarbă bună pentru creșterea vitelor.

Adeseori pe câmpii se văd niște ridicături de pământ mici și rotunde. Aceste ridicături se numesc **movile**.



Dealuri, lac. (vedere).



Dealuri, lac (cosemn).

Niște ridicături de pământ mai mari se numesc **dealuri**. Ridicăturile foarte mari, de pământ pietros, se numesc **munți**.

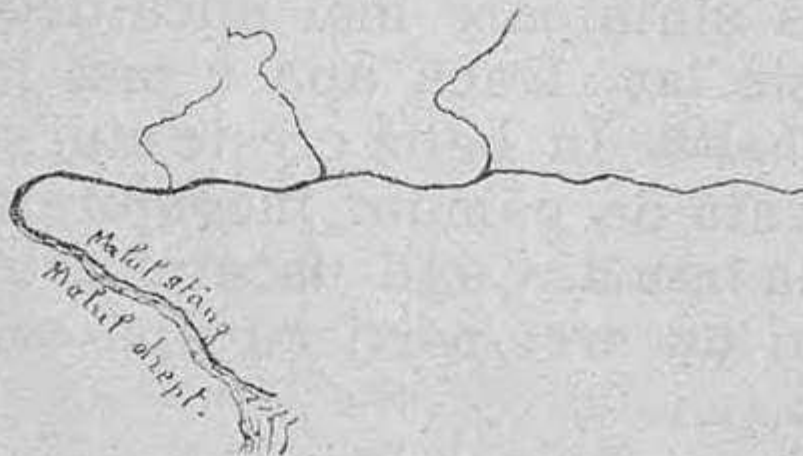
Locul de unde iese apa din pământ se numește **izvor**. Apa curgătoare formată din izvor se numește **pârâu**. Când mai multe pârae se întâlnesc, formează un **râu**. O apă

mare curgătoare formată din mai multe râuri  
se numește fluviu.



Munți (desen).

Pe fluviu plutesc vapoare și corăbii. Flu-  
viile se varsă mai totdeauna în mări.



Pârâu, râu, fluviu (desen).

**Marea** este o apă stătătoare sărată și amară, foarte întinsă. De multe ori fluviul, la vărsare, se desparte în mai multe brațe. Locul cuprins între brațele fluviului se numește **deltă**. O apă curgătoare are două țărături sau maluri.

Fiindcă fluviul curge, are fața spre partea în care curge, și dacă ne întoarcem și noi după mersul lui, țărutul din dreapta se numește **malul drept** și cel din stânga, **malul stâng**.



Baltă (desen).

O apă stătătoare mai mică decât marea se numește **lac**. Dacă apa e mai în față se numește **baltă**. În baltă crește stuf și papură.

O bucată de pământ înconjurată cu apă se chiamă **insulă**. Când uscatul este înconjurat numai de trei părți cu apă se numește **peninsulă**.

Un colț de uscat intrat mult în apă se numește **cap**, iar apa care intră mult în uscat se numește **golf**.



Mare, insulă, peninsulă, golf, cap (desemn).

## Noțiunea de plasă.

---

Primarul și consilierii trebuie să aibă grijă de comună. Se poate întâmpla însă, ca ei să-și vadă numai de treburile lor, sau să nu se priceapă la unele lucruri. Ca să iă seama cum dânșii își fac datoria și să-i povățuiască când nu se pricep, s'a pus un om mai învățat și priceput numit subprefect. În celelalte părți ale țării acestui om, i se zice administrator de plasă. Subprefectul are grija mai multor comune. Comunele puse sub grija aceluiași subprefect, formează o plasă. O plasă este formată dar, din mai multe comune. Subprefectul locuiește într'un oraș sau într'un sat din plasă. Satul sau orașul unde stă subprefectul se numește reședința plășii, iar casa în care lucrează se numește subprefectură.

---

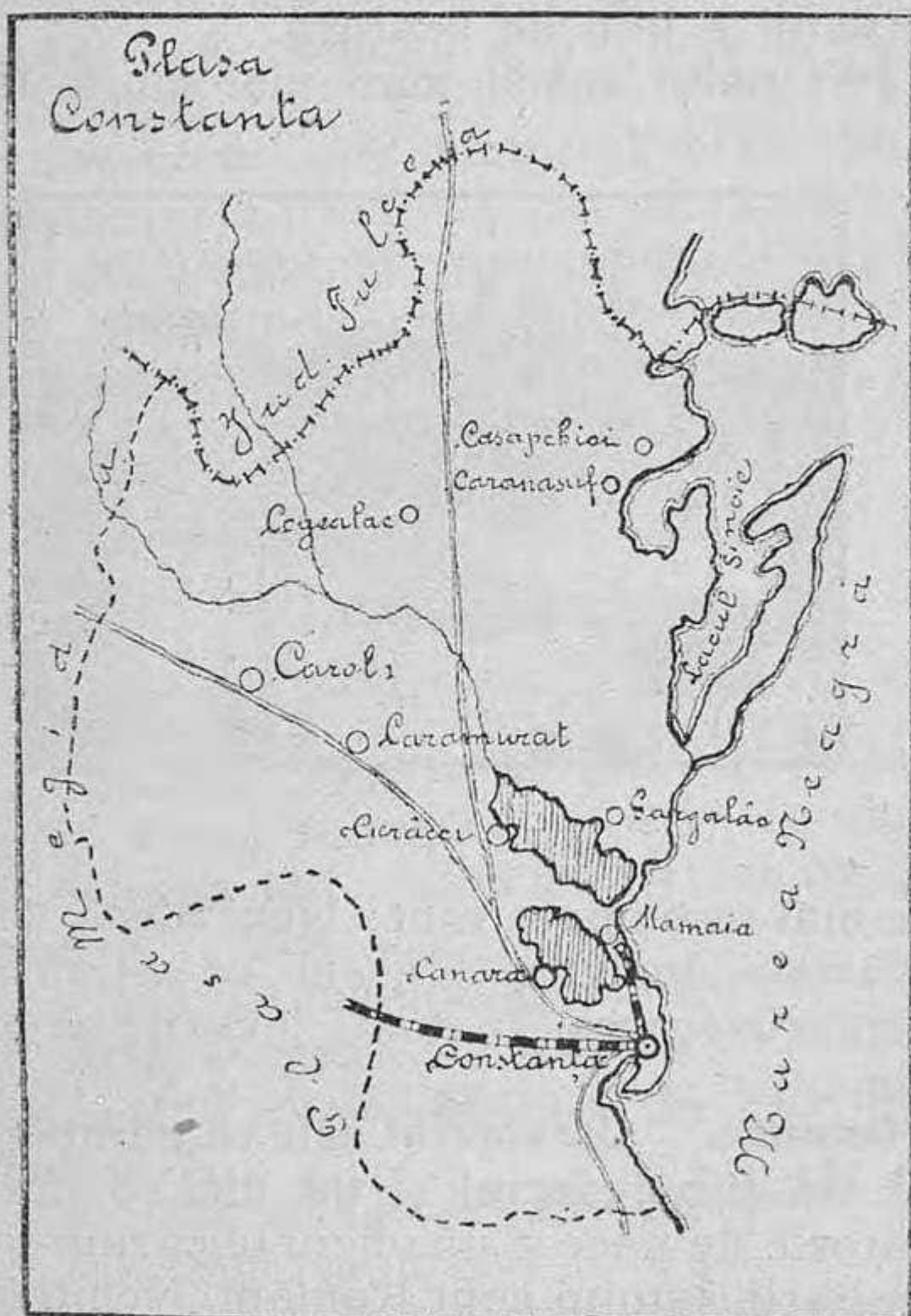
Anul I

## Plasa Constanța.

---

Comuna noastră se află în plasa Constanța. Tot în plasa Constanța mai sunt încă 14 comune, așa că comuna noastră este de 15 ori mai mică decât plasa.

Cum am desemnat planul clasei, al școalei, al satului și al comunei, putem desemna și marginele plășii noastre cu drumurile, locurile, orașele și satele din ea.




La desemnul acesta nu-i mai zicem plan, ci hartă.

Plasa Constanța se mărginește la Răsărit

cu Marea Neagră, la Apus cu plasa Megidia și plasa Hârșova, la Miazănoapte cu județul Tulcea și la Miazăzi cu plasa Megidia.

Pământul din plasa Constanța este mai mult șes. Din loc în loc sunt dealuri. Unele dealuri sunt numai de piatră. Mai peste tot, pământul e bun de arătură.

Pe malul mării sunt mai multe lacuri.



Orașul Constanța.

Cele mai însemnate sunt: lacul **Sinoe**, **Tășaul**, și **Mamaia**. In lacul Tașaul se varsă micul pârâiaș **Casimcea**. In toate lacurile se prinde pește.

**Comune.** — **Caramurat** este reședința plășii. Aici stă subprefectul și tot aici se află o judecătorie de pace și un oficiu telegrafo-poștal. Locuitorii satului sunt Români, Nemți și Tătari. Nemții cresc cai trumoși. Românii sunt oameni cu stare și au cea mai mare bancă populară, din părțile acestea.



Comuna **Cicrâceiu** este însemnată pentru carierile de piatră. Cariere de piatră sunt și la **Carol** și **Canară**.

În comuna **Casapchioi** este o școală frumoasă și o grădină mare și bine îngrijită. Lângă comuna **Caranasuf** este urma, temelia unei cetăți foarte vechi numită **Istriopolis**. **Cogelac** este comună mare, locuită mai mult de **Nemți**.

**Constanța** este singurul oraș din plasa **Constanța**. El este așezat pe malul mării. Aici vin corăbii și vapoare din toate părțile lumii. **Constanța** este cel mai mare port din părțile acestea.

---

## Plasa Mangalia.

---

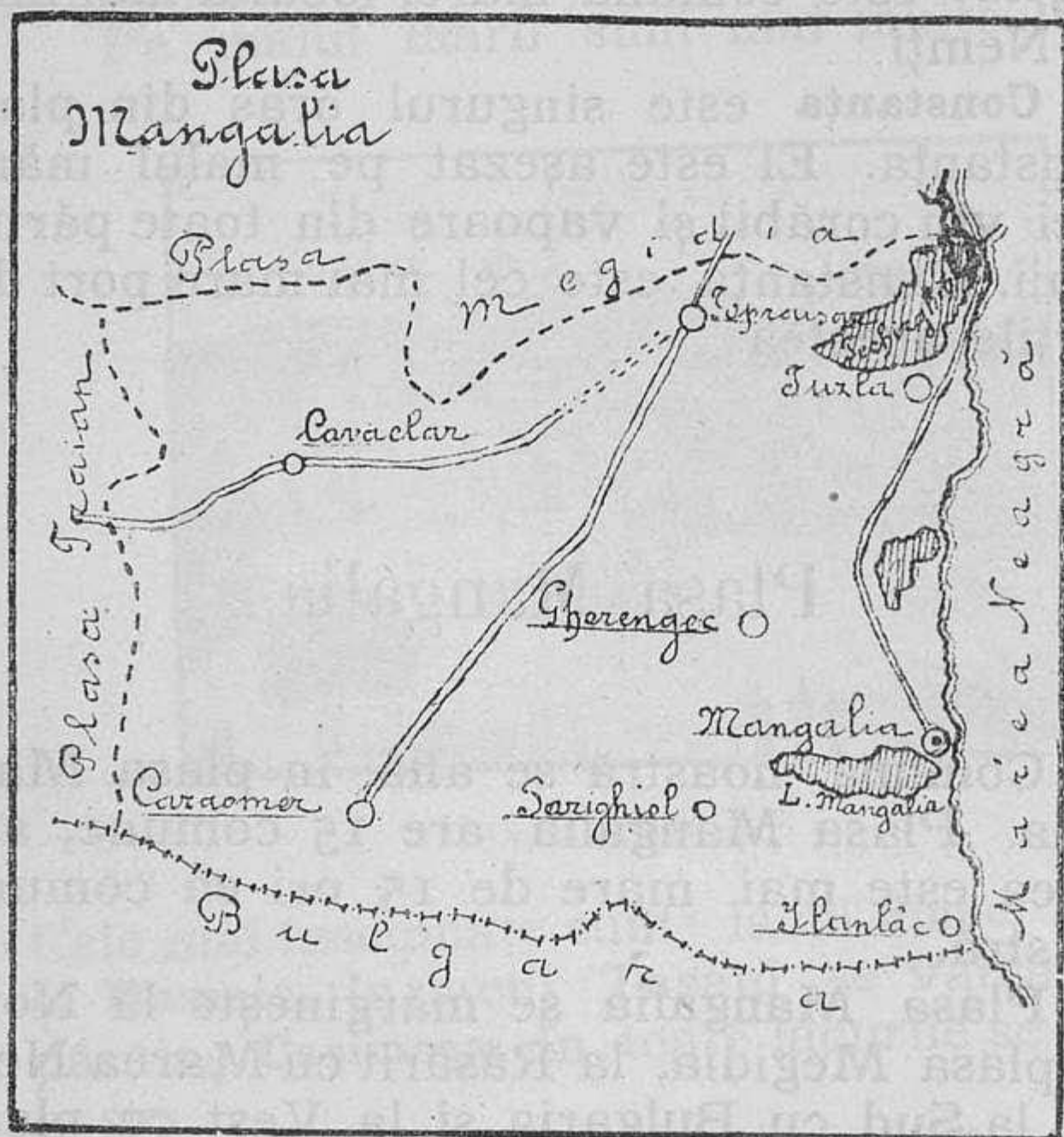
Comuna noastră se află în plasa **Mangalia**. Plasa **Mangalia** are 15 comune, așa că ea este mai mare de 15 ori ca comuna noastră.

Plasa **Mangalia** se mărginește la Nord cu plasa **Megidia**, la Răsărit cu **Marea Neagră**, la Sud cu **Bulgaria** și la Vest cu plasa **Traian**.

**Pământ și ape.** Pământul în plasa noastră este mai mult șes. Din loc în loc sunt dealuri și mai ales, sunt multe movile. Pe malul mării sunt câteva lacuri mari și însemnate ca **Techirghiol**, **Tatlageac** și **Mangalia**.


În unele părți ale plășii noastre apa este foarte adâncă și oamenii sunt nevoiți să o scoată cu calul, punând în loc de găleată, un burduf mare de piele sau de pânză.

**Comune.** Mangalia este orașul așezat pe malul mării. Ea este reședința plășii. Aici




stă subprefectul și e și o judecătorie de pace. Aproape de Mangalia sunt izvoare cu apă bună de făcut băi. În apropiere de Mangalia este și comuna **Gherengec**, însemnată, fiind comună bogată, mare și frumoasă.

**Comuna Caraomer este însemnată, pentru că-i loc de trecere în Bulgaria.**



La Caraomer este și o cazarmă, unde stau soldații, cari păzesc la graniță.



Câmpie.

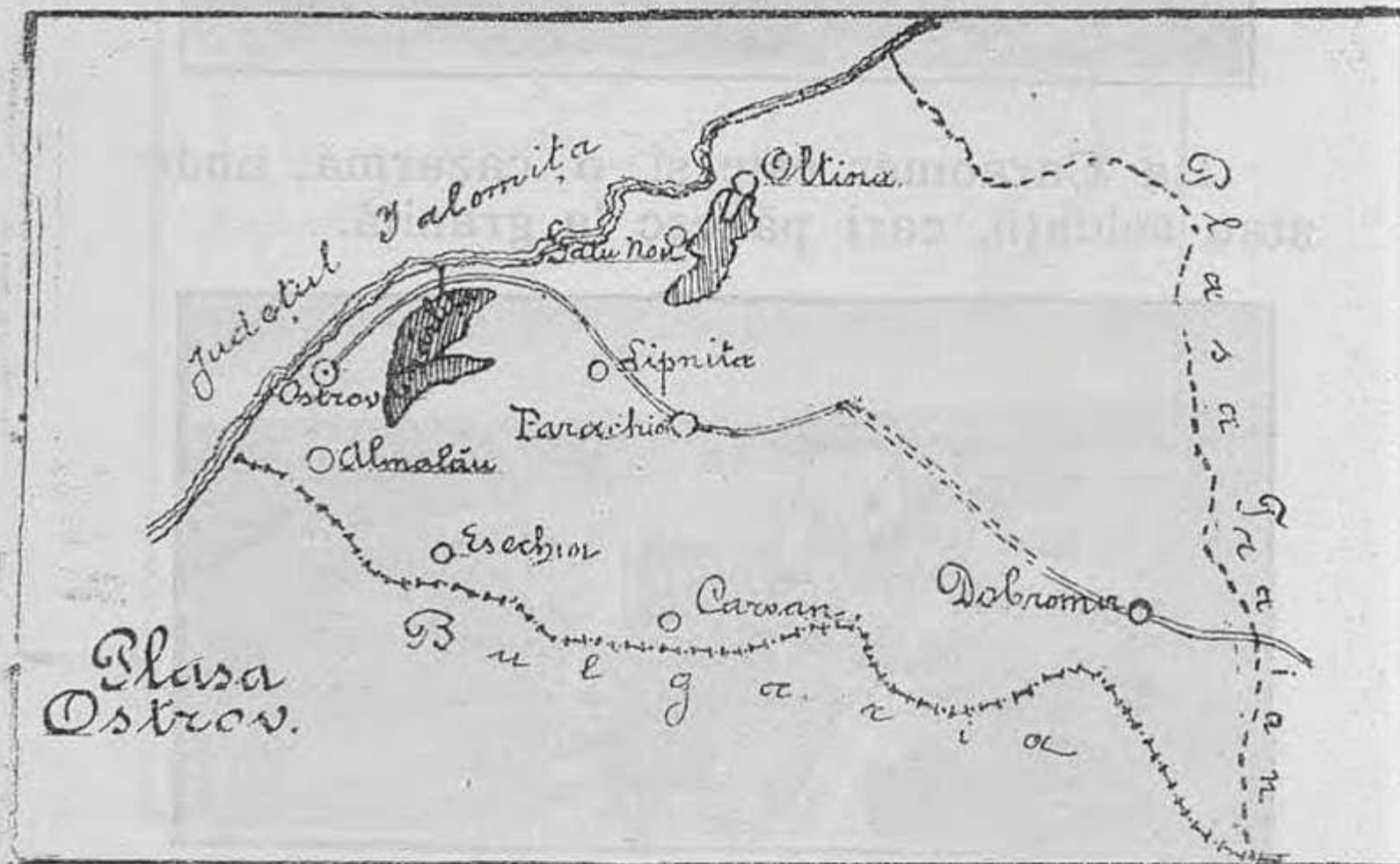
**Comunele Topraisar, Cavaclar și Tuzla sunt comuni mari.**

## Plasa Ostrov.

Comuna noastră se află în plasa Ostrov. Această plasă are 13 comune; ea este dar de 13 ori mai mare decât comuna noastră.

Ea se mărginește la Nord și Est cu plasa Traian, la Sud cu Bulgaria, la Vest cu Dunărea.

**Pământ și ape.** Pământul plășii noastre



este, mai peste tot, deluros și acoperit de păduri.

El este bun de arătură, de vii și de livezi. Pe marginea de Nord-Vest a plășii curge fluviul Dunărea. Pe malul Dunării sunt o mulțime de lacuri și bălți. Cele mai

însemnate dintre ele sunt: lacul **Gârlița** și lacul **Oltina**.

**Comune însemnate.** În plasa noastră sunt mai multe comune însemnate. Comuna **Ostrov**, așezată pe malul Dunării, este oraș, comună urbană și reședința plășii. Aici stă subprefectul plășii. Tot în Ostrov este și o judecătorie de pace și o cazarmă unde stau soldații, cari păzesc granița. Aproape de Ostrov, cam spre Sud, este comuna **Almalău**, vestită pentru vinurile sale. Comuna **Oltina**, lângă lacul Ollina, are o școală de meserii. În comuna **Parachioi** este un spital rural, unde se duc sătenii bolnavi, să se caute. **Satu-Nou**, **Esechioi**, **Lipnița**, **Carvăn** și **Dobromir** sunt comune mari.

---

## Plasa Megidia.

---

Comuna noastră se află în plasa Megidia, În plasa Megidia sunt 16 comune, așa că ea e mai mare de 16 ori decât comuna noastră. Ea se mărginește la Est cu plasa Constanța și Marea Neagră, la Vest cu județul Ialomița, la Sud cu plasa Traian și plasa Mangalia și la Nord cu plasa Hârșova și plasa Constanța.

**Pământ și ape.** În partea de Est, pământul plășii noastre este mai mult șes, iar în partea de Vest, pe malul Dunării este râpos

**Biulbul, Cobadin Cochirleni și Peștera** sunt comune mari și frumoase.

Lângă Cernavnda este un spital rural, unde sunt primiți oamenii bolnavi delă sate, o fabrică de ciment și frumosul pod „Regele Carol I“. **Alacap**, comună rurală este însemnată pentru carierele de piatră și de nisip.

## Plasa Hârșova.

Comuna noastră se află în plasa Hârșova, Plasa noastră are 10 comuni. Ea este mai mare, cam de 10 ori decât comuna noastră. Plasa Hârșova se mărginește la Est cu plasa Constanța și cu plasa Megidia, la Nord cu județul Tulcea, la Sud cu plasa Megidia, la Vest cu județul Ialomița, de care se desparte prin fluviul Dunărea.

**Pământ și ape.** In plasa noastră, pământul este deluros pe unele locuri de pe malul Dunării, pe alte locuri e jos și băltoș. In partea de Sud a plășii, începând de lângă Dunăre, se întinde marele deal al **Băltăgeștilor**. In partea de Vest a plășii noastre curge apa **Dunării**. Afară de Dunăre, mai este un mic pârâiaș, care izvorăște din plasa Istru și se varsă într'un ghiol (lac); acesta este pârâiașul **Rahman**. Dealungul Dunării curge și apa **Baroiul**, care se varsă în Dunăre, aproape de Hârșova.


**Comune insemnate.** Orașul Hârșova, așezat pe malul Dunării, este reședința plășii și port la Dunăre. La Hârșova este și judecătoria de pace.

Tot în Hârșova este o școală foarte frumoasă și o biserică asemeni mare și fru-




moasă. La marginea de Est a orașului este un spital. Hârșova a fost în vechime o cetate vestită, purtând numele de **Carsinm**. În Hârșova este și un frumos muzău regional al Dobrogei

**Topal** este comună mare așezată pe malul Dunării. Lângă Topal sunt cariere de piatră.



Biserica din Hârșova.



Școala primară din Hârșova.



**Ghizdărești** comună rurală așezată pe malul Dunării și locuită mai mult de Lipoveni.



O parte de Muzăul din Hârșova.

**Ciobanu, Saraiu, Gârliciu, Satișchioiu și Tașpunar** sunt comune mari și alcătuite din sate frumoase și oameni cu stare.

## Plasa Traian.

Comuna noastră se află în plasa Traian. În plasa noastră sunt 13 comune, așa că ea e mai mare de 13 ori decât comuna noastră. Plasa Traian se mărginește la Nord cu flu-

viul Dunărea, la Vest cu plasa Ostrov și la Sud cu Bulgaria.

**Pământ și ape.** Pământul plășii noastre este mai tot, deluros și acoperit cu frumoase păduri, mai ales în partea de Sud. În pământul acestei plăși, cresc tot felul de cereale; grâului însă îi priește cât se poate de bine.



Pe marginea de Nord a plășii, curg apele fluviului Dunărea. În apropiere de Dunăre sunt lacurile Mârleanu și Vlachiei.


**Comune.** Adam-Klisi, așezat cam în mijlo-

cul plășii este comună frumoasă și reședința plășii, căci aici stă subprefectul.



Fluviu.


In Adam-Klisi este o judecătorie de pace și o frumoasă biserică, ridicată mai acum



Monumentul dela Adam-Klisi.

câțivă ani, cu cheltueala locuitorilor. **Guzgun** este comună urbană, așezată în spre Vest de Adam-Klisi. Lângă Adam-Klisi este un monument mare și o cetate vestită, rămasă de pe vremea strămoșilor noștri Romani. **Rașova** este o comună mare, locuită numai de Români și așezată pe malul Dunării. **Mârleanu**, **Beilic**, **Enișenlia** și **Hairanchioi** sunt comune mari în plasa noastră.

In Adam-Klisel este o fabrică de țesut și o fabrică de țesut, rămasă de pe vremea strămoșilor noștri Romani.



## Județul Constanța.

---

Mai multe plăși se unesc între ele și formează un județ. Plasa noastră este în județul Constanța. Tot în județul Constanța mai sunt și plășile . . . . .

Județul nostru are dar de toate șese plăși. El este de șese ori mai mare ca plasa noastră. Județul Constanța se mărginește la Nord cu județul Tulcea, la Est cu Marea Neagră, la Sud cu Bulgaria și la Vest cu județul Ialomița, despărțite prin apa Dunării.


**Pământ și ape.** Pământul din județul nostru este mai mult șes în partea de Răsărit; el este negru și bun de plugărie. Cam spre Sud și Vest este deluros și acoperit de păduri frumoase. Spre Vest, pe malul Dunării, pământul este pe unele locuri, jos și bălțos, pe alte locuri râpos, iar cam spre Nord și Vest sunt câteva dealuri înalte. În această parte sunt dealurile **Băltăgeștilor**. Pe malurile Dunării sunt pe unele locuri frumoase păduri de salcie.

În partea de Vest, județul nostru este mărginit de fluviul **Dunărea**. Afară de fluviul **Dunărea** mai sunt pârâiașele **Rahman** și **Casimcea**, cari izvorăsc din județul Tulcea. Pe

malul Dunării sunt lacurile **Gârlița, Oltina, Mârleanu, Vederoasa și Cochirleni**. Ca și pe malul Dunării, pe malul mării, se înșiră lacurile **Sinoe, Tașaul, Mamaia, Techirghiol, Tatlageac și Mangalia**.

Toate lacurile acestea au pește destul, în unele luni ale anului, — numai lacul **Techirghiol** n'are pește.

**Orașe.** **Constanța** este oraș mare, așezat pe malul mării. El este port la mare și stație de drum de fier. În **Constanța** stă pre-




fectul, fiindcă este capitala județului. Tot în **Constanța** stă un revizor școlar și protoereul.

Aici mai este un tribunal, un gimnaziu de băeți și o școală profesională de fete. Cam la mijlocul județului, pe lângă linia fe-

rată, ce pleacă din Constanța, se află orașelul **Megidia**, reședința plășii Megidia. În Megidia se țin târguri (panair) de două ori pe an. Atunci vin negustori din toate părțile.

În plasa Megidia, pe malul Dunării mai este și orașelul **Cernavoda**, care e port la Dunăre și stație de drum de fier. Lângă Cernavoda este frumosul pod de peste Dunăre „Regele Carol I“. Tot pe malul Dunării este și orașul **Hârșova**, reședința plășii Hârșova și port la Dunăre. La Hârșova se ține un târg, toamna, ca și la Megidia. În Hârșova este cea mai frumoasă biserică și cea



Orașul Cernavoda.

mai frumoasă școală din toate orașelele județului nostru.

**Ostrov**, orașel pe malul Dunării, este reședința plășii Ostrov și port mic la Du-

*D. Bujilă, Jud. Constanța.*

năre. In plasa Traian, este comuna urbană **Cuzgun**.

Pe malul mării este orașelul **Mangalia**, port mic la Marea Neagră și reședința plășii Mangalia. Lângă Mangalia sunt niște izvoare bune de băi. Vara vin mulți oameni de fac băi aci.

**Producțiuni.** Pământul județului nostru fiind negru în multe părți și bun de arat, produce tot felul de cereale. In partea despre Dunăre pământul este cam galben și nisipos dar produce și el cereale, mai ales ovăz și secară. Cam în partea despre Apus și Miazăzi, prin plasa Ostrov și Traian sunt păduri mari și frumoase. Pe dealuri crește și dă rod bun și vița de vie. In unele dealuri se găsește piatră bună de zidit și de făcut var. Prin lacuri crește stuf și papură. Dunărea, marea și lacurile depe lângă ele au de multe ori, pește îndestulător.

**Locuitorii și ocupațiunea lor.** Mai toți locuitorii județului nostru sunt Români.

Puțini din ei sunt Bulgari, Turci, Tătari, Lipoveni, Greci, Ovrei și Armeni. Românii, Bulgarii, Rușii, Lipovenii, Grecii și Armenii sunt creștini, Turcii sunt mahomedani și Ovreii, mozaici. Toți locuitorii săteni se ocupă mai mult cu plugăria și cu creșterea vitelor. Mai ales oile sunt destul de numeroase.

Plugăria este foarte întinsă; sunt săteni, cari au chiar sute de hectare. Prin unele locuri se mai cultivă și vița de vie. Sunt ves-



tite viile dela Almalău din plasa Ostrov și delà Cogelac din plasa Constanța.

Orășenii se ocupă mai mult cu negustoria și meșteșugul. Sunt puține meșteșuguri în județul nostru.

Se fac doar căruțe, vase de aramă pentru bucătărie și se dreg uneltele de muncă.



Cositul și treeratul cerealelor.

**Organizarea județului.** Capul județului nostru este prefectul. Prefectul este capul oricărui județ. Prefectul se sfătuește, când voește să facă ceva pentru județ, cu niște oameni aleși de către locuitorii județului. Acești oameni se numesc consilieri județeni, iar toți la un loc formează consiliul județean.

Consilierii județeni se aleg din patru în patru ani. Prefectul stă într'un oraș din județ. Orașul în care stă el se numește **capitala județului**, iar casa în care lucrează el și **consiliul județean** se numește **prefectură**. Totdeauna într'un județ este și un tribunal, un revizor școlar și un protoereu.



Cariere de piatră.

**Drumuri.** În județul nostru putem călători cu trenul dela Constanța la Cernavoda și cu vaporul dela Hârșova la Ostrov, prin Cernavoda și pe mare dela Constanța spre Mangalia.

Delă un sat la altul, putem merge cu căruța pe drumuri sau pe șosele. Șosele sunt foarte puține în județul nostru. Dela Constanța sunt șosele spre Mangalia, spre Hâr-

șova și spre Tulcea. Incolo nu sunt decât crâmpoșe de șosele, începute dar neisprăvite.

**Locuri istorice.** Județul Constanța nu este stăpânit de noi numai de câțiva ani.

El a fost stăpânit de multă vreme, de neam din neamul nostru. Dărămături de



Turmă de oi.

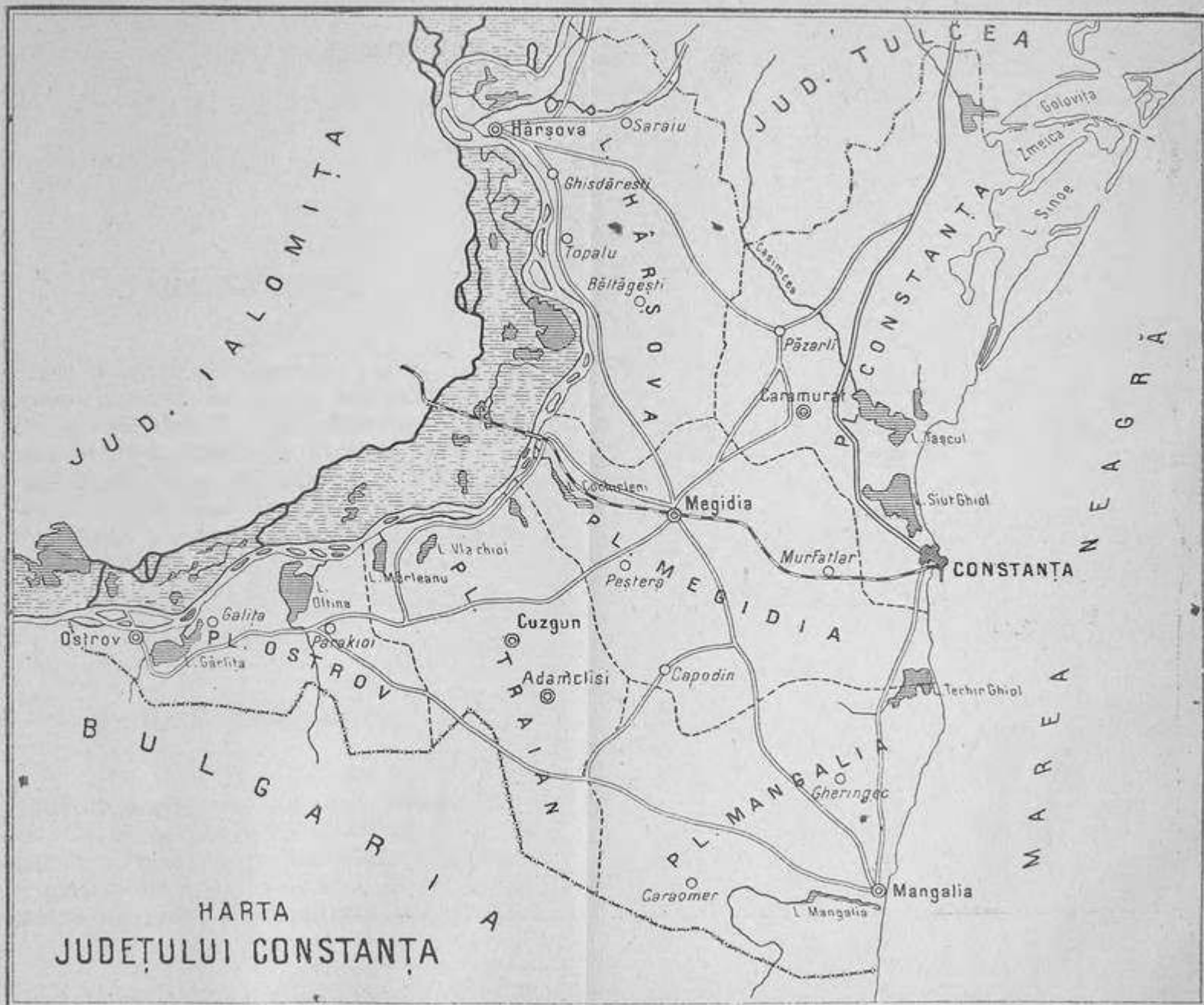
orașe și cetăți ne amintesc pe strămoșii noștri, cari au stăpânit odată acest pământ.

Lângă satul Adam-Klisi este ruina mărețului monument al lui Traian.

Lângă Caranasuf sunt urmele vechii cetăți Istriopolis. În locul Constanței a fost orașul Tomis, în locul Mangaliei a fost strămoșescul oraș Calatis și în locul Hârșovei a fost orașul Carsium.

Dela Constanța și până la Cernavoda se întind două ridicături de pământ, făcute de strămoșii noștri. Oamenii le zic „valurile lui Traian“.

Să fim mândri, că am stăpânit atâta vreme acest pământ și cu nădejdea și credința în Dumnezeu să muncim, ca să facem dintr'ânsul un colț de raiu al țării noastre.



## TARA NOASTRA.

---

Plasa noastră se numește plasa . . . .  
Din plasa noastră fac parte comunele . . . .

Plasa este de . . . . ori mai mare decât  
comuna noastră, pentru că întrânsa sunt . . .  
comuni. Hotarele plășii noastre : La Est . . .  
la Vest . . . . la Sud . . . . la Nord . . . .

Reședința plășii noastre este în comuna  
urbană-rurală . . . . .

---

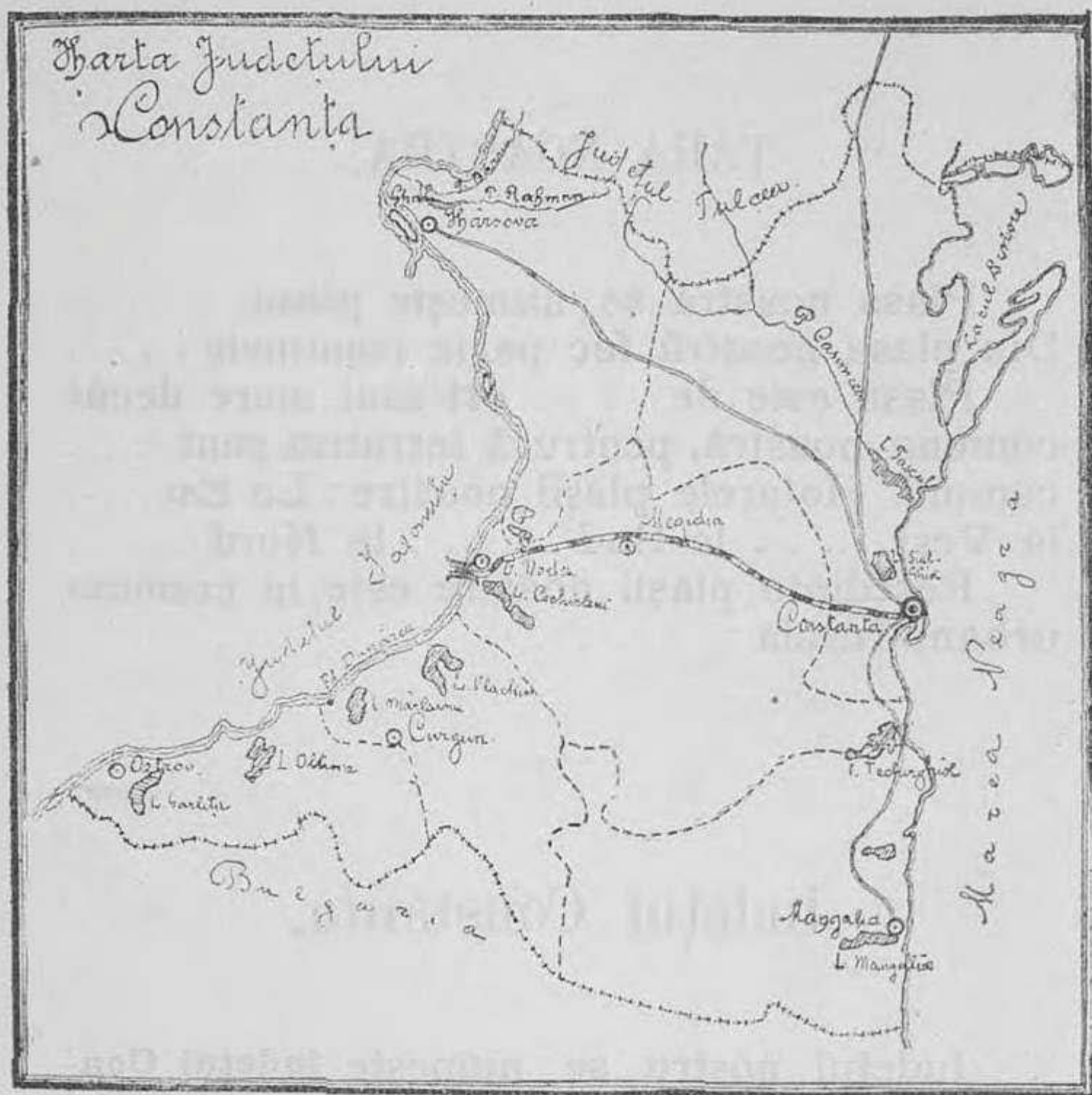
## Județul Constanța.

---

Județul nostru se numește județul **Con-**  
**stanța**. Ca să se poată face la timp și la fel  
drumurile și alte lucruri trebuitoare locuito-  
rilor, mai multe plăși se unesc la un loc și  
formează un județ. Cărmuitorul județului se

numește un om priceput, care se chiamă prefect.

El stă într'unul din orașele județului. Orașul în care stă prefectul se numește reședința județului sau capitala județului.



Capitala județului nostru este orașul Constanța.

Județul Constanța are următoarele hotare: La Nord, județul Tulcea; la Sud, Bul-

garia; la Est, Marea Neagră și la Vest, județul Ialomița.

Județul Constanța este alcătuit din următoarele plăși:

1) **Plasa Constanța**, cu reședința în comuna **Caramurat**.

2) **Plasa Mangalia** cu reședința în orașul **Mangalia**.

3) **Plasa Ostrov** cu reședința în orașul **Ostrov**.

4) **Plasa Megidia** cu reședința în orașul **Megidia**.

5) **Plasa Hârșova** cu reședința în orașul **Hârșova**.

6) **Plasa Traian** cu reședința în comuna **Adamklisi**.

Județul Tulcea are 6 plăși, așa dar este mai mare de 6 ori decât plasa noastră.

## Noțiunea de țară

**Familia.** Tata, mama și copiii lor alcătuiesc o familie. Familiile trăesc sau locuiesc în case. Pentru că traiul oamenilor să fie mai ușor, ei viețuiesc în case, ce-s așezate unele lângă altele, formându-se astfel satele și orașele; după cum au case mai mici, ori mai mari; ulițe, drumuri și străzi mai largi, drepte și așternute cu piatră. Satele sunt locuite mai mult de familii de plugari; iar în orașe sunt meseriași și negustori.



**Comuna.** Unul sau mai multe sate formează o comună rurală; iar orașele sunt comune urbane. Fiecare comună este îngrijită de primar, ajutat și de consiliul comunal. Comuna noastră se numește . . . . .  
Satul unde se află primăria se numește reședința comunii.

**Plasa.** Câteva comune mai apropiate unele de altele formează o plasă. Plasa este îngrijită de un administrator comunal. Administratorul comunal din plasa noastră și din plășile vecine poartă numele de subprefect. Satul sau orașul unde locuiește subprefectul se numește reședința plășii. Plasa noastră se numește plasa . . . . .  
Reședința plășii noastre este în . . . . .  
. . . . . Din plasa noastră fac parte comunele . . . . . și având . . . . . comuni, plasa este mai mare decât comuna noastră de . . . . . ori.

**Județul.** Mai multe plăși apropiate unele de altele alcătuiesc un județ. Județul este cărmuit de prefect. Orașul unde locuiește prefectul se numește reședința județului sau capitala județului. Județul nostru se numește județul Constanța. Din județul Constanța fac parte plășile: Constanța, Mangalia, Ostrov, Megidia, Hârșova și Traian, deci județul Constanța este de 6 ori mai mare decât plasa noastră.

**Țara.** Imprejurul și pe lângă județul Constanța mai sunt încă 31 județe, cari toate la un loc alcătuiesc țara noastră, România. Țara noastră-i cărmuită de Majestatea sa Regele Carol I.

Țara noastră are 32 județe și-i destul de mare, căci zile și săptămâni întregi ne-ar trebui ca să mergem dela un capăt la celalalt al ei.

În România trăim noi Români și fiecare Român este dator să-și cunoască țara.

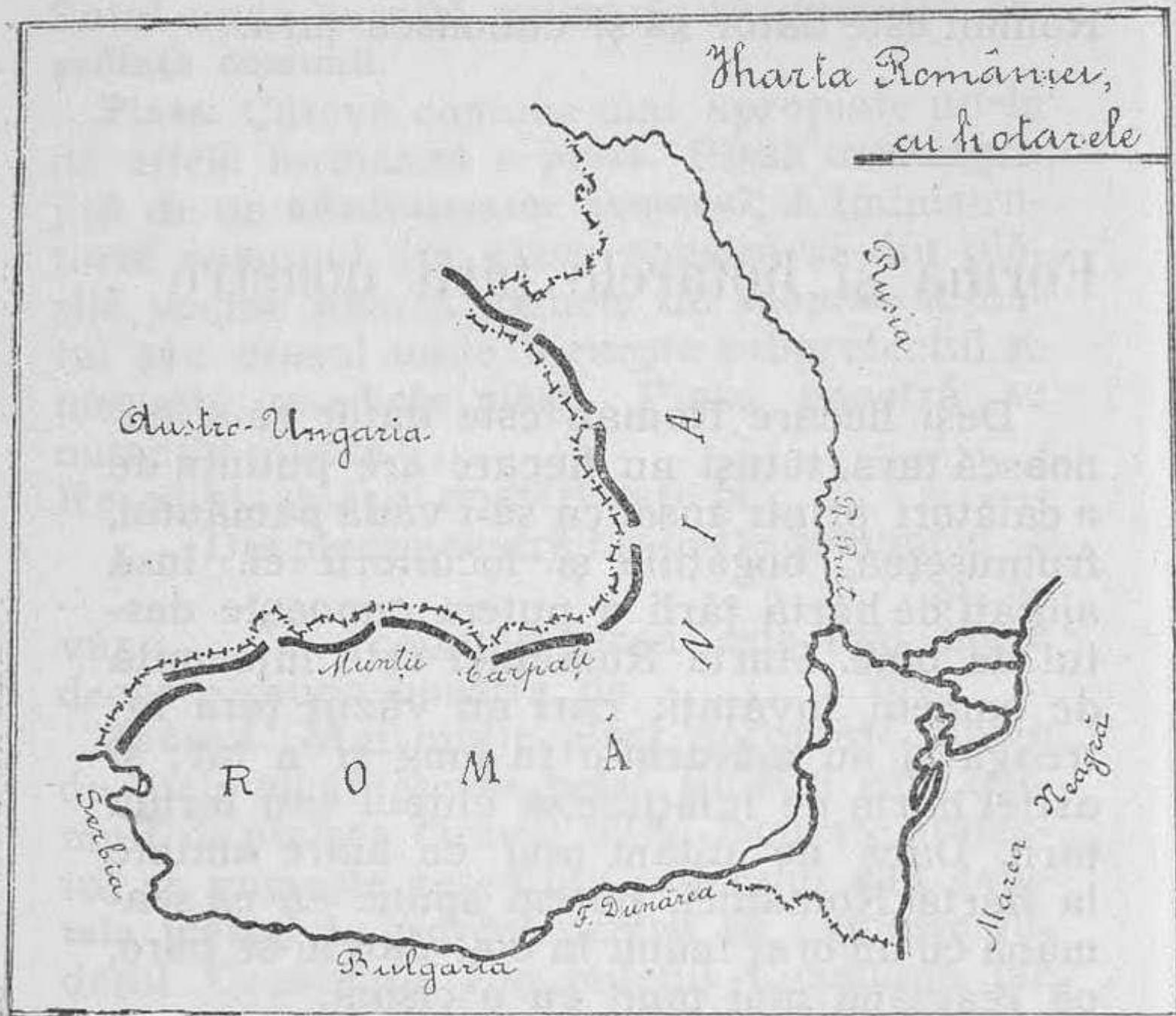
## Forma și hotarele țării noastre <sup>1)</sup>.

Deși fiecare Român este dator să-și cunoască țara, totuși nu fiecare are puțința de a călători printr'ansa, ca să-i vadă pământul, frumusețea, bogățiile și locuitorii ei. Însă ajutați de harta țării o putem cunoaște destul de bine. Harta României este întocmită de oameni învățați, cari au văzut țara întreagă și au măsurat-o în lung și 'n lat; și astfel harta ne înfățișează chipul sau forma țării. Dacă ne uităm mai cu luare aminte la harta României, putem spune că ea seamănă cu un braț îndoit la cot, dar ni-se pare, că seamănă mai mult cu o cismă.

Împrejurul țării noastre mai sunt și alte țări: Rusia, locuită de Ruși; Austro-Ungaria, locuită de Austriaci și Unguri; Bulgaria, locuită de Bulgari și Serbia, locuită de Sârbi. România, cu toate aceste țări se învecinește

1) Se va face încă o revedere a «noțiunilor geografice» dela pag. 26 din acest text.

sau se mărginește și se desparte de ele, prin hotare. Astfel că putem zice: România se mărginește la **Răsărit** cu Rusia, având de hotare râul Prut și Marea Neagră; la **Apus** cu Serbia și o parte din Austro-Ungaria, de



care se desparte prin fluviul Dunărea și munții Carpați; la **Miazăzi** cu Bulgaria, având de hotare Dunărea și o linie prin bună înțelegere, și la **Miazănoapte** se mărginește cu Austro-Ungaria, de care se desparte prin munții Carpați și o linie de învoială.

## Infățișarea pământului.

Dacă ne-am urcă cu ceva sus de tot, în înaltul cerului și ne-am uita deasupra țării noastre am vedea, că infățișarea pământului nu-i tot una de netedă, peste tot cuprinsul ei. În unele părți sunt mari ridicături de pământ — munții — în altele pământul este mai puțin ridicat — dealurile — iar în partea dinspre Dunăre pământul este neted — câmpiile.

Astfel că, putem împărți după infățișarea pământului, România, în 3 regiuni: Regiunea munților, regiunea dealurilor și regiunea șesului sau a câmpiilor.

**I. Regiunea munților** este formată din munții Carpați și se întinde pe tot întinsul hotarului dintre țara noastră și Austro-Ungaria.

Piscurile sau vârfurile cele mai înalte din regiunea munților sunt: **Paringul, Omul, Caraimanul, Ceahlăul și Pietrele Roșii.**

Din loc în loc munții sunt brăzdați de văi mari și adânci și pe aceste văi curg apele țării. Tot prin aceste văi putem trece în țara vecină, cu piciorul, cu trăsura sau cu trenul. Aceste locuri sunt trecătorile Carpaților.

Trecătorile cele mai însemnate sunt: **Vârciorova, Lainici, Căineni, Predeal, Oituz și Burdujeni.**

**2. Regiunea dealurilor** se întinde din poalele munților Carpați și până 'n șesul Du-

nării și al Prutului, precum și o bună parte din România dintre Dunăre și Marea Neagră.



3. Regiunea șesului sau a câmpiilor se in-

tinde din regiunea dealurilor și până'n Dunăre și dealungul apelor

Văile cele mari ale țării sunt: valea Dunării udată de fluviul Dunărea; — valea Oltului, udată de râul Olt; — valea Siretului, udată de râul Siret, Putna și Milcovul și valea Prutului, udată de apele râului Prut.



## Impărțirea României

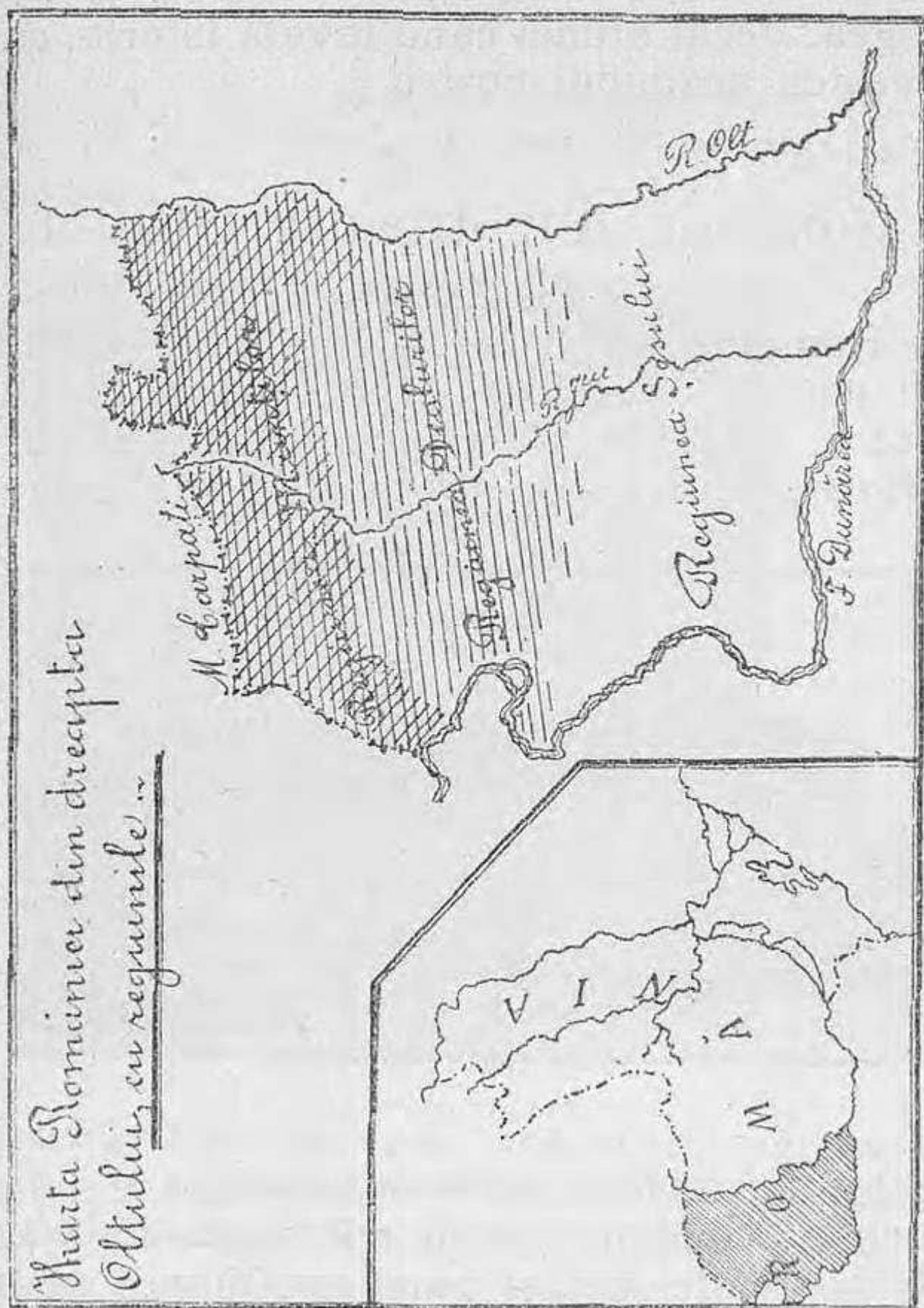
Pentru că să putem cunoaște și învăța mai cu înlesnire țara noastră, obișnuim ca



să o împărțim în 4 părți mari, după cum chiar apele o desparte:

I. **România din dreapta Oltului.**

2. România dintre Olt și Milcov.
  3. România dintre Milcov și Prut; — și
  4. România dintre Dunăre și Mare.
- Innaintea vreme strămoșii noștri numiau



astfel aceste părți: **Oltenia**, adică România din dreapta Oltului; **Munteni**, adică Româ-



nia dintre Olt și Milcov; **Moldova**, adică România dintre Milcov și Prut; **Dobrogea**, adică România dintre Dunăre și Mare. Astăzi însă Românii nu întrebuintează numirile de Oltenia, Muntenia, Moldova și Dobrogea, decât atunci când învață Istoria, sau povestea neamului nostru.

## România din dreapta Oltului

România din dreapta Oltului se întinde din coama munților Carpați, până în Dunăre și râul Olt. Pe pământul acestei părți a țării noastre, sunt înfățișate toate cele 3




Vedere din Turnu Severin.

regiuni: La Nord regiunea muntoasă; — dela poalele Carpaților se începe regiunea dealurilor; iar de aci și până în Dunăre se întinde câmpul sau câmpiile.

## Județele României din dreapta Oltului

România din dreapta Oltului are 5 județe și anume: **Mehedinți**, **Dolj**, **Gorj**, **Vâlcea** și **Romanați**.



Tâmpla unei biserici.

**Județul Mehedinți** este așezat în partea de Apus, a țării. Are de capitală orașul **Turnu Severin**, port la Dunăre, căci sosesc și pleacă de aci vapoare și corăbii, cari duc și aduc călători și mărfuri din alte părți. În dreptul acestui oraș se văd și azi unii din stâlpii podului zidit din porunca împăratului

Traian, spre a-și putea trece peste Dunăre,  
oștirile sale.




Mănăstirea Cazia.



**Județul Dolj este un județ de câmpie. Are**



Vedere din Craiova.



Prefectura din Râmnicu Vâlcea

de capitală orașul **Craiova**, cel mai mare și mai frumos oraș al României din dreapta Oltului. Aci se face negoț mare și sunt multe meșteșuguri.



Statuia lui Tudor Vladimirescu din Târgu-Jiu

Județul **Vâlcea** are de capitală orașul **Râmnicu Vâlcea**, așezat pe valea Oltului.

La **Mănăstirea Cozia**, odihnesc rămășițele trupești ale Marelui Voevod **Mircea cel Mare**.


Județul **Gorjiu** se află în regiunea muntoasă. Orașul **Târgu Jiu** este capitala județului. În acest oraș se află turnat în bronz chipul

lui Tudor Vladimirescu, care acum vre-o 90 de ani, a chemat pe Români la deșteptare.



Turmă de oi.

**Județul Romanati cu capitala Caracal, oraș**




Vaci de lapte

așezat cam în mijlocul județului. **Corabia**




Un cioban



Saline de sare

este schelă (mic port) însemnată pentru mul-



Tăiatul lemnelor la munte

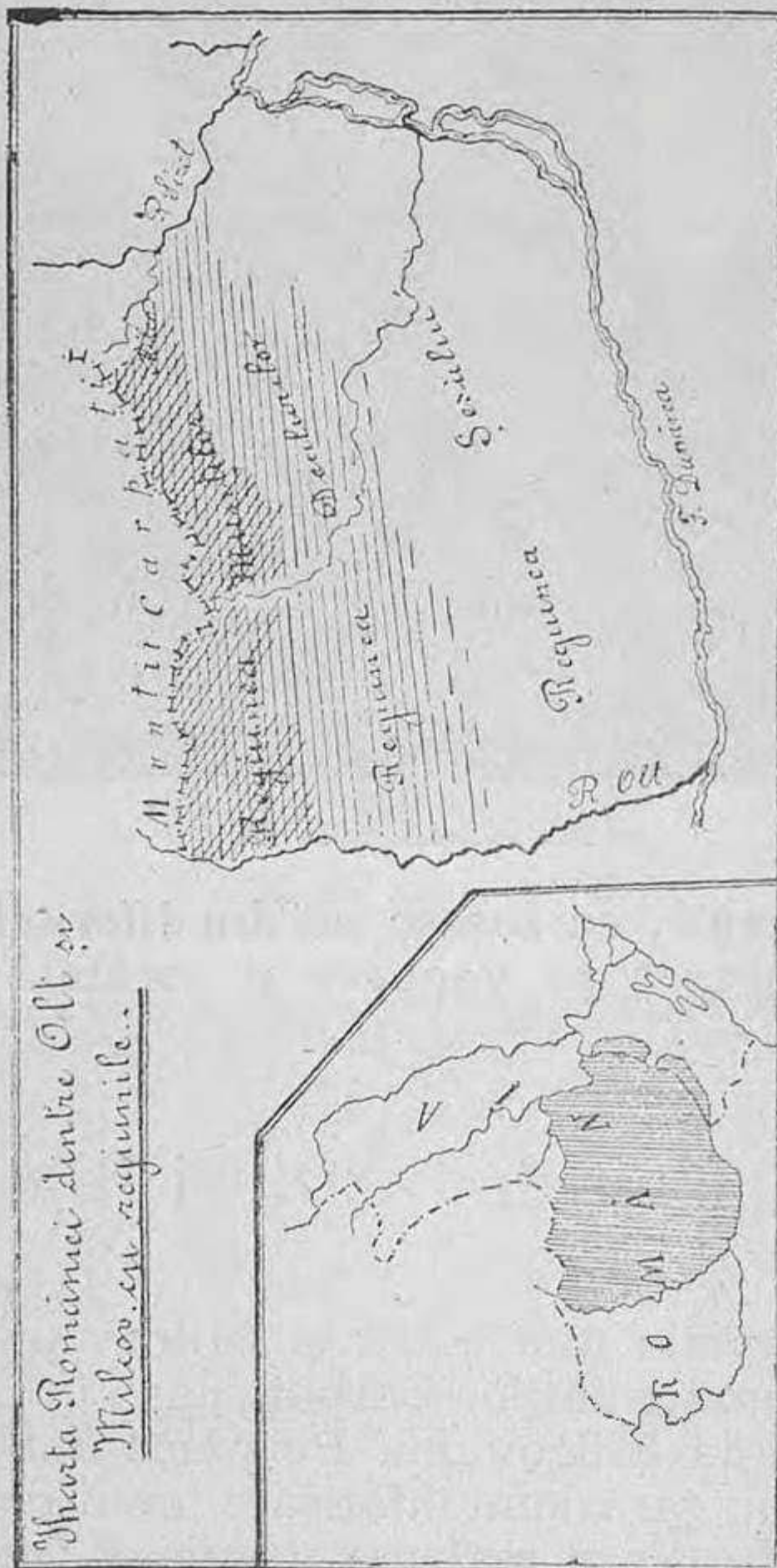
tele cereale, ce sosesc aci din diferitele părți și se încarcă pe vapoare și corăbii.

## România dintre Olt și Milcov.

România dintre Olt și Milcov se întinde din coama munților Carpați, până în Dunăre, Olt și apa Milcovului. Pe pământul acestei părți din țară sunt înfățișate toate cele 3 regiuni: La Nord regiunea muntoasă ; dela poalele Carpaților se întinde regiunea dealurilor ; iar din poalele dealurilor și până în Dunăre



se întinde regiunea șesului, sau câmpiile. Cea



Șurta României dintre Olău  
și Mureș, cu regiunile...

mai mare și mai întinsă câmpie, depe pământul întregii României se găsește în această parte

a țării, dealungul apei Ialomița ; această câmpie poartă numele de **Bărăganul**. Pământul ei este foarte roditor. Vara, când holdele dau în copt, această câmpie pare c'ar avea asemănarea unui întins covor auriu, fără sfârșit.

## Județele României dintre Olt și Milcov

România dintre Olt și Milcov are 12 județe :

Județul Argeș are de capitală orașul **Pitești** : Inspre Nord de acest oraș se află oră-



Mănăstirea Argeșului

șelul **Cartea de Argeș**, care înainte vreme a fost capitala Munteniei, după Câmpulung.

În Curtea de Argeș este zidită frumoasa mănăstire a Argeșului făcută cu cheltuiala bunului creștin Voevodul Neagoe și a Doamneisale, Despina; și lucrată de marele meșter Manole, acum vre-o 400 ani.


Județul Muscel are de capitală orașul Câmpulung. Aci a descălicat pentru prima oară Negru Vodă cu voinicii lui și și-a așezat scaunul domnesc. În satul Rucăr, Românii și Românele sunt oameni frumoși la chip, iar îmbrăcămintea lor îi neîntrecută în frumusețe.



Orașul Câmpulung școala normală

Județul Dâmbovița are de capitală orașul Târgoviște. Acest oraș a fost a treia capitală a țării românești (Muntenia). Și azi se văd în acest oraș și prin împrejurimi ruinele palatului domnesc, biserici și mănăstiri, zidite de domnii și boeri evlavioși din trecut. Înăuntrul mănăstirii Dealul se păstrează țeasta capului marelui voevod Mihaiu Viteazul, care a domnit peste țară, or fi de atunci mai bine de 310 ani.

**Județul Prahova, cu capitala Ploești, este unul dintre orașele mari ale țării. Aci se**



Mănăstirea Dealului—Târgoviște

face negoț mare și-s multe meșteșuguri. In-spre Nordul județului Prahova se află cel mai frumos oraș de munte **Sinaia**, unde sunt



Castelul Peleș Sinaia

zidite castelele Peleş și Pelișor, frumoase ca palate din povești. Timpul verii, Familia noastră regală, aci și-l petrece.

Județul Prahova este cel mai bogat județ al țării.

Județul Buzău cu capitala Buzău. In munții acestui județ pasc numeroase turme de oi, din laptele cărora se fabrică cel mai gustos cașcaval, zis „Cașcaval de Penteleu“.

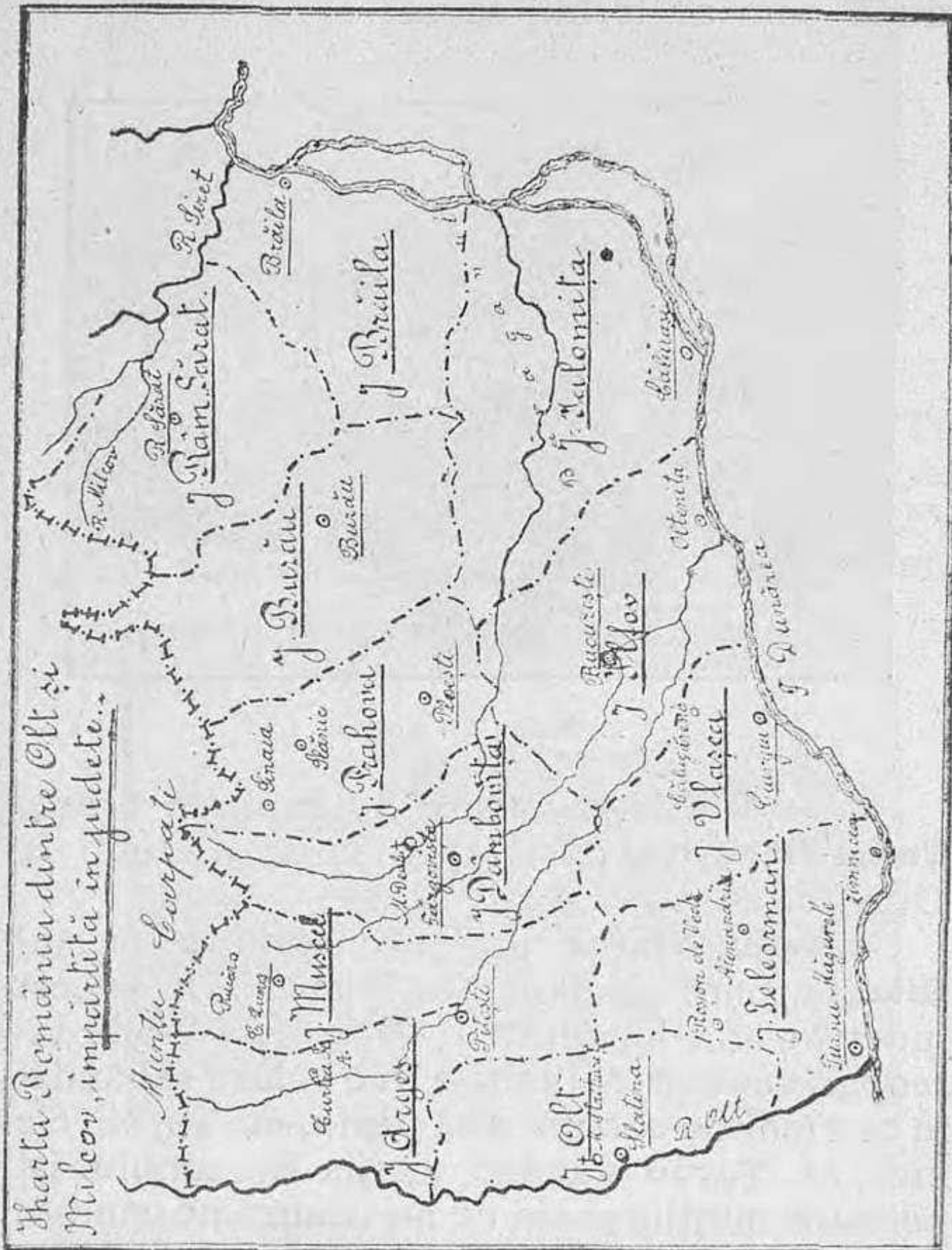


Sfânta Episcopie a Buzăului

Peste iarnă aceste turme, cobor munții și merg a se adăposti în desișul bălților, depe lângă Dunăre.


Județul Râmnicu Sărat, cu capitala Râmnicu Sărat. In acest județ sunt câteva mănăstiri de călugări, zidite în vremea de demult.

**Județele Argeș, Muscel, Dâmbovița, Prahova, Buzău și Râmnicu Sărat sunt așezate în partea muntoasă și deluroasă a țării.**



**Județul Olt, are de capitală orașul Slatina așezat aproape de malul stâng al Oltului.**


Lângă mănăstirea **Strihareț** este o școală de agricultură, unde feciorii de țărani, pot învăța agricultura și creșterea vitelor, așa după cum ar trebui făcute.



Prefectura din Slatina


**Județul Teleorman** are de capitală orașul **Turnu-Măgurele**, port la vărsarea Oltului în Dunăre.

**Județul Vlașca** are de capitală orașul **Giurgiu**, port insemnat la Dunăre. In acest județ se află localitatea **Călugăreni**, unde viteazul voevod Mihaiu a avut mare izbândă, în cea mai de seamă a sa luptă, cu Turcii. Se zice, că Turcii văzând vitejia Românului își perdură mințile și cei ce nu căzură pe câmpul de luptă, în zăpăceala ce-i cuprinsese, se înneacă în Dunăre.



Orașul Giurgiu.

**Județul Ilfov** cu capitala **București**. Tot orașul **București** este și capitala țării, căci aci locuiește **Majestatea Sa Regele** și **Familia Regală**. Este cel mai mare și mai



Palatul Regal din București.

frumos oraș al țării. Într'ânsul se face mare negoț și sunt multe fabrici și meșteșuguri.


În **București** sunt multe școli de învățatură înaltă. Împrejurul **Bucureștilor** sunt

*D. Bujilă. Jud. Constanța.*

6



câtevă mănăstiri, clădite în vremea de-  
demult.



Seminarul central-București.



Palatul poștelor-București.

**Județul Ialomița** cu capitala **Călărași**. În județul Ialomița este cea mai mare câmpie a țării—**Bărăganul**.

**Județul Brăila** cu capitala **Brăila**, port mare la Dunăre. Aci se încarcă foarte multe cereale, în vapoare mari, ce pornesc apoi

pe Dunăre și Mare, în alte țări. În acest oraș sunt multe fabrici de săpun, lumânări, țaină, ciment, rahat și altele.




Universitatea. — Statuia lui Mihai Viteazul. București.

Județele : Olt, Teleorman, Vlașca, Ilfov, Ialomița și Brăila sunt așezate în partea de șes a țării.



Tăiatul scândurilor la munte

Locuitorii din România, dintre Olt și Milcov au următoarele ocupațiuni: Cei de la munte se ocupă cu tăiatul și cioplitul lemnului, fac scânduri, stâlpi, grinzi, și doage. Tot la munte, numeroase turme de oi,



Sonde pentru scoaterea păcurei din pământ-Băicoiu.

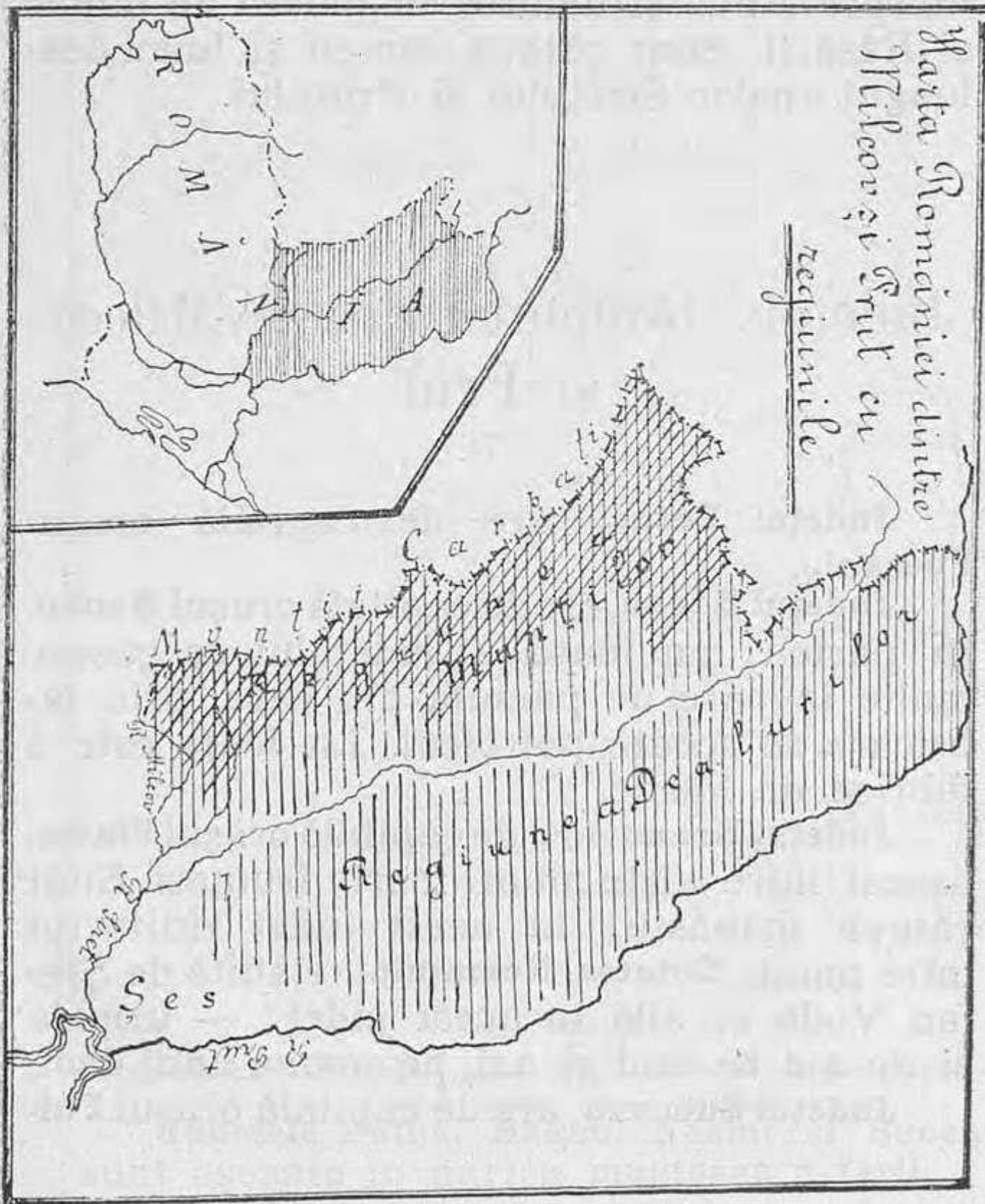
șasc pășunile frumoase și bogate ale plaiurilor, unde se fabrică brânza și cașcavalul cei mai bun.

Locuitorii dela deal au multe grădini cu pomi roditori; merele, nucile, prunele și perele de pe aci, se trimit spre vânzare, în toată țara.



V te cornute.

Locuitorii dela câmpie muncesc pământul, arându-l și semănându-l cu porumb, grâu orz și ovăz și prisosul ce au din aceste cereale îl vând în porturile depe lângă Dunăre; iar de aci pleacă în alte țări. În portul Brăila se încarcă toamna și primăvara sute și mii de vapoare și corăbii, cu cereale, care pornesc pe apă, în multe țări ale lumii.



## România dintre Milcov și Prut

---

România dintre Milcov și Prut se întinde din coama munților Carpați, până 'n Dunăre, Milcov și râul Prut. Pământul acestei părți de țară este muntos în partea dinspre Apus și deluros în partea de mijloc și Răsărit. Sunt câteva câmpii și lunci dealungul apelor Siretului și Prutului.

---

## Județele României dintre Milcov și Prut

---

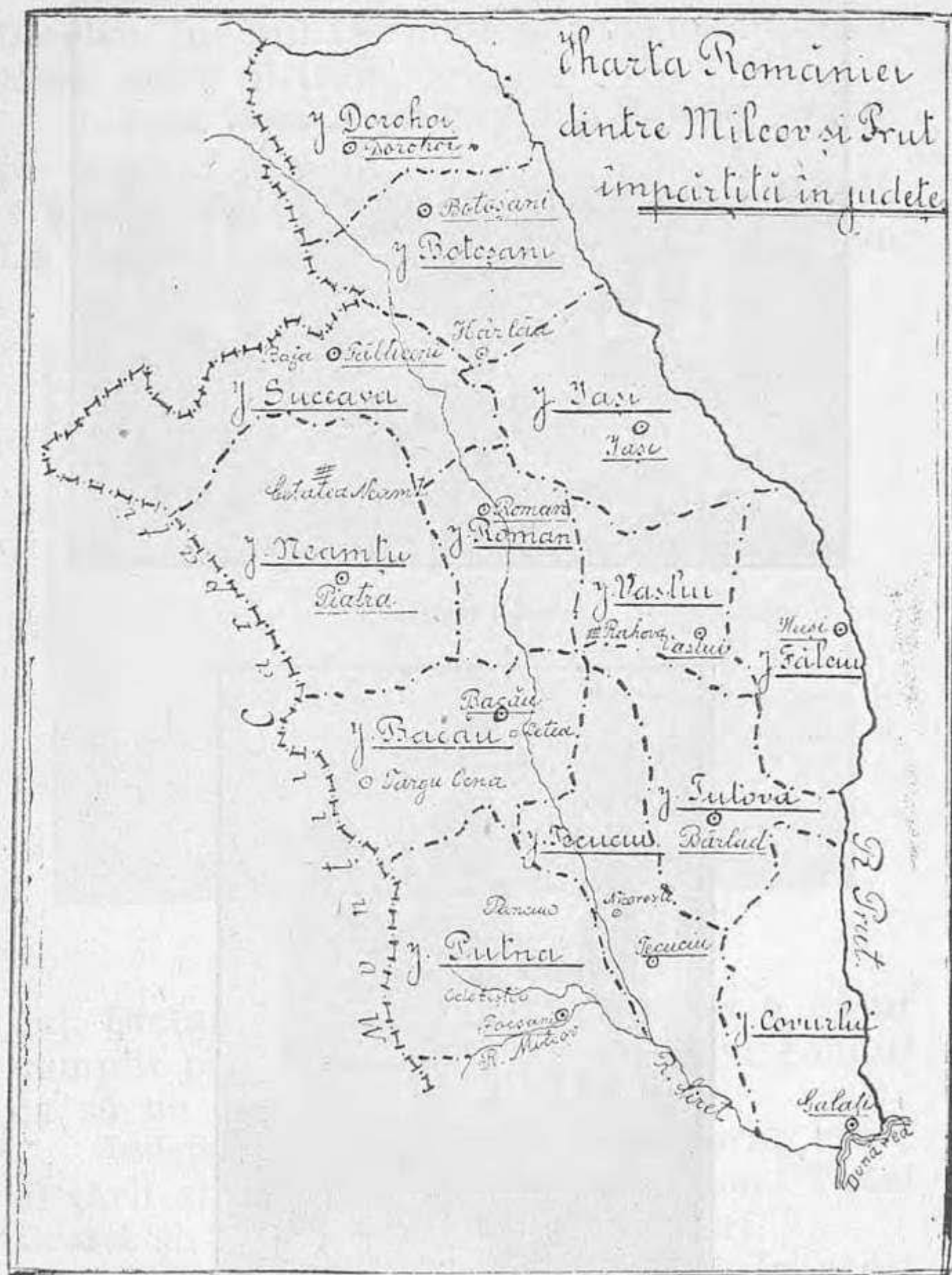
**Județul Putna**, are de capitală orașul **Focșani**.

**Județul Bacău**, are de capitală orașul **Bacău**. În partea muntoasă a județului se găsesc multe izvoare de păcură, din care, prin fabricare se scoate petrolul. La **Letea** este o fabrică de hârtie,

**Județul Neamț**, are de capitală orașul **Piatra**, așezat între niște munți foarte frumoși. Sunt câteva mănăstiri în acest județ zidite tot între munți. **Cetatea Neamțului**, clădită de **Ștefan Vodă** se află în acest județ; — urmele ei de zid se văd și azi, pe coama unui deal.

**Județul Suceava**, are de capitală orașul **Făl-**

ticieni. La Baia, într'o luptă Ungurii au fost strașnic bătuți de ostașii lui Ștefan Vodă.



Județele Putna, Bacău, Neamț și Suceava sunt așezate în partea muntoasă a țării.

**Județul Botoșani cu capitala Botoșani, o-**



Orașul Botoșani.




Mitropolia din Iași.

raș mare, în care se fabrică cea mai bună făina de grâu din țara noastră.

**Județul Dorohoi**, are de capitală orașul **Dorohoi**. Județul Dorohoi este cel mai dinspre Nord județ al țării.

**Județul Roman**, cu capitala **Roman**, așezat pe valea Siretului.

**Județul Vaslui** are de capitală orașul **Vaslui**. La localitatea numită **Rahova**, din acest ju-



Școala normală de învățători. Bârlad.

deț, **Ștefan Vodă** cel mare și sfânt a bătut cumplit pe Turcii, cari veniseră cu gândul ca să ne cuprindă țara.

**Județul Iași** cu capitala **Iași**, oraș mare al țării și fostă capitală a Moldovei. **Podul Iloaiei** și **Târgul Frumos** sunt târguri.

**Județul Fălciu**, cu capitala **Huși**. În acest județ vitele cornute sunt de rassă foarte bună.



Innaintea vremea boii fălcieniști erau vestiți până peste hotare.

La carele cu pește ale lui Petru Rareș erau înjugați boii fălcieniști.

Județul Tutova, are de capitală orașul Bârlad.

Județul Tecuciu, are de capitală orașul Tecuciu.

Județul Covurlui are de capitală orașul




Gara de Nord din București

**Galati**, cel mai mare port al țării la Dunăre. Se face negoț întins în Galati, unde sunt și multe fabrici. Din acest port pleacă pe Dunăre și de aci pe mare multe vapoare ce duc în țări streine mărfuri românești și ne aduc înapoi acele mărfuri de care avem noi nevoie.

Locuitorii celor 13 județe ale României dintre Milcov și Prut se ocupă, cei dela

munte cu industria lemnului, fabricarea varului. In unele părți scot păcura și sarea din pământ; iar alții pasc turme de vite, pentru carne, lapte, brânză și lână.



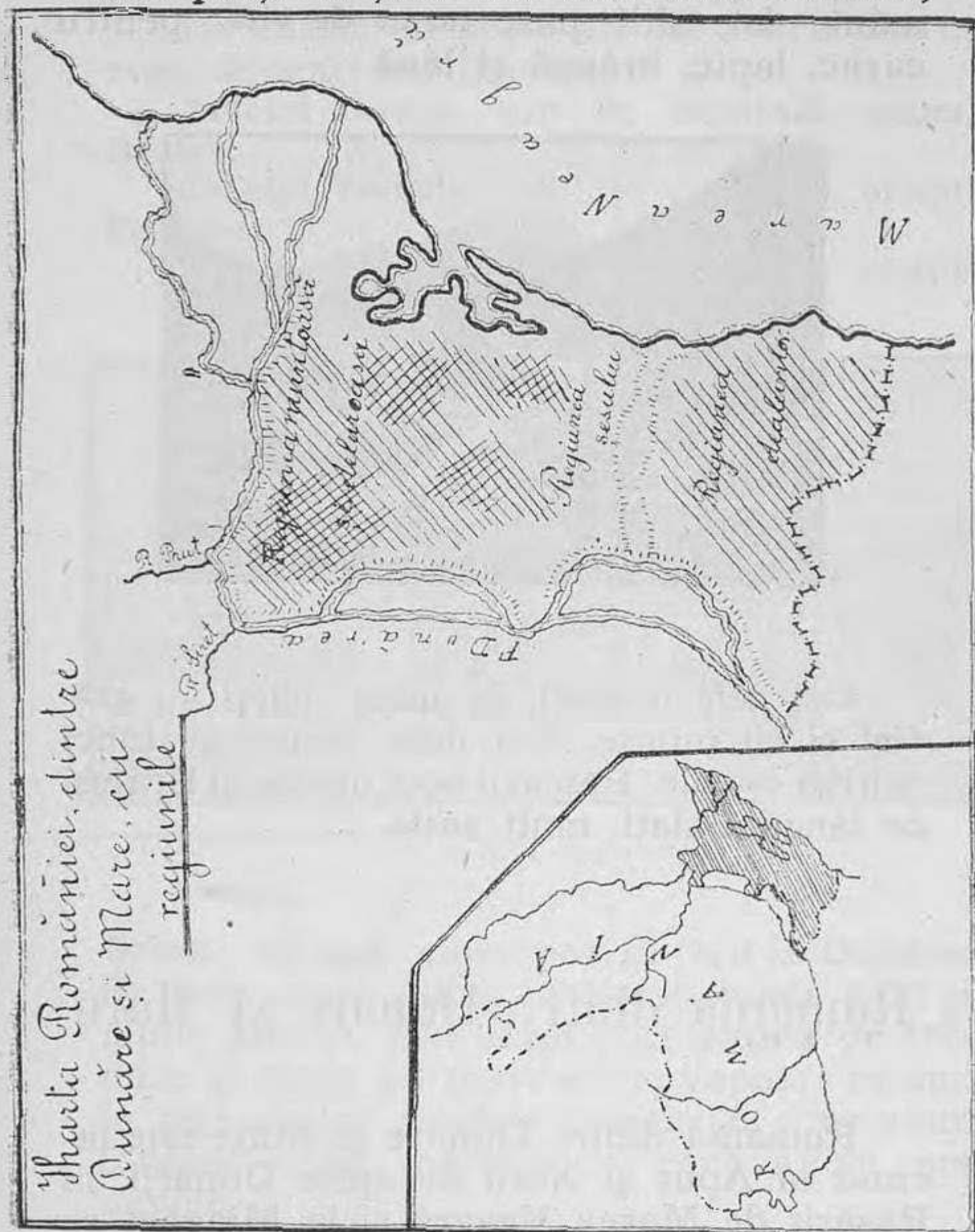
Băile Slănic-Bacău.

Cei delà dealuri, în unele părți au grădini și vii întinse. Cei delà șesuri și lunci cultivă cereale. Pescarii scot din lacul Brateși de lângă Galați, mult pește.

## România dintre Dunăre și Mare

România dintre Dunăre și Mare este încinsă la Apus și Nord de apele Dunării, la Răsărit de Marea Neagră și la Miazăzi se întinde până la o linie, prin bună înțelegere, ce pleacă delà Ostrov și merge la Marea

Neagră mai jos de Mangalia. Pământul acestei părți de țară este mai mult deluros,



muntos în câteva locuri și șes în partea de mijloc. Dealungul Dunării și Mării Negre sunt multe lacuri și bălți întinse.

## Județele României dintre Dunăre și Mare

**Județul Constanța**, are de capitală orașul **Constanța**, cel mai mare port al României, la Marea Neagră. Din Constanța pornesc și vin vapoare cu mărfuri și călători, din toate părțile lumii.




La **Cernavoda** este un mare pod de fier în apele Dunării, legând Constanța cu restul



Orașul Constanța.


țării prin cale ferată. **Hârșova** și **Ostrov** sunt mici porturi pe Dunăre.



Portul Constanța.

Județul **Tulcea** are de capitală orașul **Tulcea**, port la Dunăre. În acest oraș este turnat în bronz, chipul lui **Mircea Basarab**,

care a stăpânit multă vreme și România  
dintre Dunăre și Mare. **Sulina** este port în-




Orașul Tulcea.



Statuia lui Mircea cel Mare-Tulcea.

semnat la Marea Neagră. **Isaccea** și **Măcin** sunt mici porturi la Dunăre.

Orașul **Babadag** este așezat într'o foarte frumoasă pozițiune.



Monumentul Reanexării Dobrogei-Tulcea.

Locuitorii României dintre Dunăre și Mare muncesc pământul, semănând cereale și legume de tot felul; — cresc numeroase turme de vite, oi și mai cu osebire cai mă-

runți la statură dar iuți și puternici. Într'unele sate sunt grădini frumoase și vii multe; iar din bălțile Dunării și din lacurile Mării se scoate mult pește, ce se duce spre vânzare în orașele Brăila, Galați, Tulcea și Constanța, iar de aci în toată țara.

## Sinteza întregii României

**Margini.** România este o țară mare și frumoasă, cu vre-o 13 milioane hectare pe pământ întindere și locuiesc înrânsa aproape 6 milioane și jumătate suflete.

Țara noastră se mărginește la Nord și Vest cu Austro-Ungaria și o parte din Serbia, la Sud cu Bulgaria și la Est cu Rusia și Marea Neagră.

**Relieful solului.** Pământul României în partea dinspre Nord și Vest este muntos. Piscurile sau vârfurile de munți cele mai înalte din țara noastră sunt: **Parângul, Omul, Caraimanul, Ceahlăul și Pietrele Roșii.** Ne-ar trebui o zi întreagă, ca să ne putem urca deasupra unuia din aceste vârfuri, dacă am pleca delà poalele lui disdedimineată.

Putem trece hotarul țării prin munți, pe la trecătorile: **Vârciorova, Lainici, Căineni, Predeal, Oituz și Burdujeni.** Pe la Vârciorova,

*D. Bujilă. Jud. Constanța.*




Câineni, Predeal și Burdujeni, putem trece și cu trenul în țara vecină, fiind drum de fier. Pământul României, în partea de mijloc, Sud și Est, e deluros și șes. Dealurile



se întind din poalele munților până 'n câmpii; iar câmpiile se întind până 'n Dunăre și unele dealungul apelor țării.

**Văile.** Sunt multe și mari văi, cari brăzdează cuprinsul țării și toate aceste văi sunt udate de ape curgătoare: **Dunărea** curge dela **Apus** spre **Răsărit**, **Jiul**, **Oltul**, **Ialomița**, **Siretul** și **Prutul** sunt râuri mari ale țării; —



ele curg dela Nord la Sud, vărsându-se în Dunăre; iar Dunărea duce apa lor în Marea Neagră. Pe Marea Neagră și pe Dunăre merg multe vapoare și corăbii cu mărfuri și călători.

## Județele României cu capitalele lor

Pământul României este împărțit în **32** județe și anume: **5** județe în România din dreapta Oltului; **12** județe în România dintre Olt și Milcov; **13** județe în România dintre Milcov și Prut și **2** județe în România dintre Dunăre și Mare.

Aceste județe sunt:

### I. În România din dreapta Oltului:

Județul Mehedinți	cu capitala	Turnu-Severin	} 5 județe
„ Gorjiu	„	Târgu-Jiu	
„ Vâlcea	„	Râmnic-Vâlcea	
„ Doljiu	„	Craiova	
„ Romanați	„	Caracal	

### 2. În România dintre Olt și Milcov:

Județul Argeș	cu capitala	Pitești	} 12 județe
„ Olt	„	Slatina	
„ Teleorman	„	Turnu-Măgurele	
„ Vlașca	„	Giurgiu	
„ Muscel	„	Câmpulung	
„ Dâmbovița	„	Târgoviște	
„ Prahova	„	Ploești	
„ Ilfov	„	București	
„ Ialomița	„	Călărași	
„ Buzău	„	Buzău	
„ Râmnicu-Sărat	„	Râmnicu-Sărat	
„ Brăila	„	Brăila	

### 3. In România dintre Milcov și Prut:

Județul	Putna	cu capitala	Focșani	} 13 județe
"	Bacău	" "	Bacău	
"	Neamț	" "	P. Neamțu	
"	Suceava	" "	Fălticeni	
"	Dorohoi	" "	Dorohoi	
"	Botoșani	" "	Botoșani	
"	Iași	" "	Iași	
"	Roman	" "	Roman	
"	Vaslui	" "	Vaslui	
"	Tulova	" "	Bârlad	
"	Tecuciu	" "	Tecuciu	
"	Fălciu	" "	Huși	
"	Covurlui	" "	Galăț	

### 4. In România dintre Dunăre și Mare:

Județul	Tulcea	cu capitala	Tulcea	} 2 județe
"	Constanța	" "	Constanța	


## Avuțiile României

Pământul României este mănos și produce multe cereale, cari-'s întrebuințate pentru hrana locuitorilor. Ceia ce-i prisosește Românului din cereale le vinde la orașe, gări și porturi, — și neguțătorii le trimit în alte țări. Grâul, porumbul, orzul și ovăzul

din România sunt mult căutate în țările Apusului.

Pe dealurile dela **Drăgășani, Odobesti, Panciu, Nicorești și Sarica** sunt podgorii mari, cari dau vinuri foarte bune.

Din județele **Prahova** (Slănic, Cămpina, Buștenari, Băicoiu), **Buzău** (Monteoru), **Bacău** (Târgu Ocna și Moinești) și **Vâlcea** (Ocnele Mari) se scoate multă păcură și sare.



Cariere de piatră.

Toți munții noștri sunt acoperiți cu păduri bătrâne. Pădurile-'s puse în tăiere, iar lemnul lor este adus la vale, cu trenurile sau cu plutele pe apa râurilor. Din munți și dealuri se mai scoate piatră foarte bună de zidit, de pavat străzile și piatră de var.

Grădini și pomi roditori se găsesc mai pe tot întinsul țării. Locuitorii de pe malul

apelor și bălților pescuiesc mult pește de diferite neamuri.

Tot felul de vite cresc Români, mai ales oi, vaci, cai, capre, etc.

Fiecare Român, pentru a-și câștiga cele trebuitoare traiului, muncește cu pricepere, alegându-și o meserie, fie-ca plugar, meșteșugar ori neguțător.

Și, tot Românul luminându-și mintea prin învățatură de carte; alegându-și o meserie, muncind cu pricepere și învățând a-și cunoaște bine țara, lucrează pentru fericirea lui și a neamului românesc.

FĂRȘIT




Vederea Orașului Constanța

---

**Prețul 1 leu**

---



Vederea Podului de peste Dunăre

GEOGRAFIA JUDEȚULUI  
UNU84175 100.00 Lei



[www.ziuaconstanta.ro](http://www.ziuaconstanta.ro)