



---

**EVALUAREA COMPETENȚELOR FUNDAMENTALE  
LA FINALUL CLASEI a II-a  
2014**

**Model de test**

**MATEMATICĂ**

**Județul / sectorul.....**

**Localitatea.....**

**Școala.....**

**Numele și prenumele elevei / elevului.....**

.....

**Clasa a II-a.....**

**Băiat**

**Fată**

**Cod școală.....**



**Mircea, Adrian, Vera și Ana citesc aceeași carte, care are 250 de pagini. Până acum, fiecare copil a citit din carte câte un număr de pagini, astfel:**



158 pagini



95 pagini



236 pagini



97 pagini

1. Care este ordinea copiilor, în funcție de numărul paginilor citite?

**Încercuiește litera corespunzătoare răspunsului corect.**

- a) Vera, Adrian, Ana, Mircea
- b) Vera, Ana, Mircea, Adrian
- c) Vera, Mircea, Ana, Adrian
- d) Vera, Mircea, Adrian, Ana

Nu se completează de către elev  
COD

1.	<input type="text"/>
----	----------------------

2. Ce număr are penultima pagină citită de Vera?

**Încercuiește litera corespunzătoare răspunsului corect.**

- a) 157
- b) 230
- c) 235
- d) 237

Nu se completează de către elev  
COD

2.	<input type="text"/>
----	----------------------

3. Care dintre operațiile de mai jos trebuie efectuată, pentru a afla câte pagini au citit împreună Vera și Mircea?

**Încercuiește litera corespunzătoare răspunsului corect.**

- a)  $97 + 158$
- b)  $236 + 158$
- c)  $158 - 97$
- d)  $236 - 158$

Nu se completează de către elev  
COD

3.	<input type="text"/>
----	----------------------

4. Câte pagini trebuie să mai citească Ana pentru a ajunge până la pagina 100?

**Încercuiește litera corespunzătoare răspunsului corect.**

- a) 2 pagini
- b) 3 pagini
- c) 197 pagini
- d) 250 pagini

Nu se completează de către elev  
COD

4.	<input type="text"/>
----	----------------------

5. Copiii au citit timp de două săptămâni și două zile. Câte zile au citit?  
**Încercuiește litera corespunzătoare răspunsului corect.**

- a) 12 zile
- b) 14 zile
- c) 16 zile
- d) 18 zile

Nu se completează de către elev  
COD

5.	<input type="text"/>
----	----------------------

6. Verei i-au rămas de citit 14 pagini. Ea va citi câte 7 pagini în fiecare zi. În câte zile va termina de citit cartea?  
**Încercuiește litera corespunzătoare răspunsului corect.**

- a) 1 zi
- b) 2 zile
- c) 12 zile
- d) 22 zile

Nu se completează de către elev  
COD

6.	<input type="text"/>
----	----------------------

7. Ce figură geometrică folosești pentru a desena coperta cărții citite de copii?  
**Încercuiește litera corespunzătoare răspunsului corect.**

- a) un cerc
- b) un pătrat
- c) un triunghi
- d) un dreptunghi

Nu se completează de către elev  
COD

7.	<input type="text"/>
----	----------------------

8. Care dintre copii a citit mai mult de 158 de pagini?

**Încercuiește litera corespunzătoare răspunsului corect.**




- a) Mircea
- b) Adrian
- c) Ana
- d) Vera

Nu se completează de către elev  
COD

8.	<input type="text"/>
----	----------------------

9. În tabel sunt trecute numerele paginilor citite de Ana într-o zi. Numerele care lipsesc din tabel reprezintă paginile ei preferate. Care sunt, în ordine crescătoare, numerele paginilor preferate de Ana?

**Încercuiește litera corespunzătoare răspunsului corect.**

53		55	56
57	58	59	
	62	63	64
65	66	67	68

- a) 54, 61 și 60
- b) 61, 60 și 54
- c) 54, 60 și 61
- d) 53, 59 și 62

Nu se completează de către elev  
COD

9.	<input type="text"/>
----	----------------------



12. Mircea are 15 lei și merge la librărie să cumpere cărți. Prețul cărților este notat în tabelul următor:

Carte de povești	9 lei
Carte de poezii	7 lei
Carte de colorat	8 lei
Carte de ghicitori	6 lei

Poate Mircea să își cumpere o carte de colorat și una de povești?  
**Explică, în spațiul dat, răspunsul tău.**

**Da**, pentru că \_\_\_\_\_

\_\_\_\_\_

**Nu**, pentru că \_\_\_\_\_

\_\_\_\_\_

*Nu se completează de către elev*  
COD

12.	<input type="text"/>
-----	----------------------

**FELICITĂRI, AI AJUNS LA SFÂRȘITUL TESTULUI!!**  
**MULȚUMIM PENTRU PARTICIPARE!**